

## AUTOCORRECCIÓN SOCIAIS DE 4º

### Exercicio 1 páxina 81.

1. **Datos:**

Cálculo da densidade de poboación cos seguintes datos:

Habitantes: 1.250

Superficie: 12 KM cadrados.

2. **Pregunta**

Cal é a densidade de poboación neste municipio?

3. **Operación:**

$$\text{Densidade} = \frac{\text{Nº Habitantes}}{\text{Superficie}} \quad \frac{1.250}{12} \quad \text{solución} = 104 \text{ habitantes por Km cadrado}$$

4. **Solución:**

Haberá 104 habitantes por Km cadrado.

### Exercicio 2 páxina 81.




1. **Datos:**

-  **Moi poboadas.**
-  **Moderadamente poboadas**
-  **Pouco poboadas**

2. **Pregunta**

Engade o nome de tres provincias de cada grupo.

3. **Solución:**

-  **Moi poboadas:** Málaga, Madrid e Barcelona.
-  **Moderadamente poboadas:** Murcia, Toledo e Ourense
-  **Pouco poboadas:** Lugo, Teruel e Cuenca.