

Nome \_\_\_\_\_ Data \_\_\_\_\_

**1** Se tiveses que mandar por algún medio de comunicación unha invitación para o teu aniversario, cal empregarías? Explica.

\_\_\_\_\_

\_\_\_\_\_

\_\_\_\_\_

\_\_\_\_\_

\_\_\_\_\_



**2** Escribe onde corresponda.

- carta      radio      correo electrónico      xornal      televisión

Medios de comunicación interpersoais \_\_\_\_\_

Medios de comunicación de masas \_\_\_\_\_

**3** Que pasaría se non existise o teléfono móbil? Escribe.

\_\_\_\_\_

\_\_\_\_\_

\_\_\_\_\_

\_\_\_\_\_

\_\_\_\_\_

**4** Para que podemos usar Internet? Marca as afirmacións correctas.

- Buscar información para facer un traballo.
- Visitar os nosos avós na súa casa.
- Falar cuns familiares que viven noutra cidade.
- Ordenar os xoguetes do meu cuarto.
- Mandar unha mensaxe a uns amigos para celebrar o teu aniversario.
- Comprar unhas entradas para ir ao cine.

**5** De que tipo de publicidade se trata, consumista ou educativa?




**6** Debes dar a coñecer a publicidade da actividade anterior. Escribe dous medios de comunicación e dous lugares onde podería verse.

Medios de comunicación ►

Lugares ►

Nome \_\_\_\_\_ Data \_\_\_\_\_

**1** Que diferenzas hai entre enviar unha carta e enviar un correo electrónico? Escribe.

\_\_\_\_\_

\_\_\_\_\_

\_\_\_\_\_

\_\_\_\_\_



**2** Escribe dous medios de comunicación para cada tipo.

• Medios de comunicación de masas:

1. \_\_\_\_\_

2. \_\_\_\_\_

• Medios de comunicación interpersoais:

1. \_\_\_\_\_

2. \_\_\_\_\_

**3** Contesta.

• Cales son os medios de comunicación de masas? \_\_\_\_\_

\_\_\_\_\_


\_\_\_\_\_

• Cales son os tipos de publicidade? \_\_\_\_\_

\_\_\_\_\_

\_\_\_\_\_

**4** Se organizases unha campaña de publicidade para anunciar os teus produtos á maior cantidade de xente posible, que medios de comunicación escollerías? Arrodea.



**5** Escribe catro cousas para as que podes usar Internet.

---



---



---

**6** De que tipo de publicidade se trata? De que conciencia?




---



---



---



---



---



---



---



---

Nome \_\_\_\_\_ Data \_\_\_\_\_

**1** Define paisaxe.**2** Escribe onde corresponda.

serra

río

bosque

outeiro

mar

**3** Completa.

A costa é o terreo que está  
preto do .

Na costa hai  de  
area e  de rocha.

**4** Escribe o nome de cada elemento da paisaxe onde corresponda.

- val    vila    estrada    serra    campo de cultivo  
 faro    río    túnel    cabo    outeiro    cidade

Elementos naturais

Elementos construídos

**5** Completa.

- medio físico  
 ecosistema  
 seres vivos

Un  está formado por un  e os  que habitan nel.

**6** Que tipo de ecosistema é cada un? Une.



Ecosistemas terrestres



Ecosistemas acuáticos



Nome \_\_\_\_\_ Data \_\_\_\_\_

**1 Le e escribe o nome do elemento da paisaxe que corresponda.**

Terreo chan situado entre montañas ►

Conxunto de montañas ►

Ampla porción de terra que entra no mar ►

Extensión de terra completamente arrodeada polo mar ►

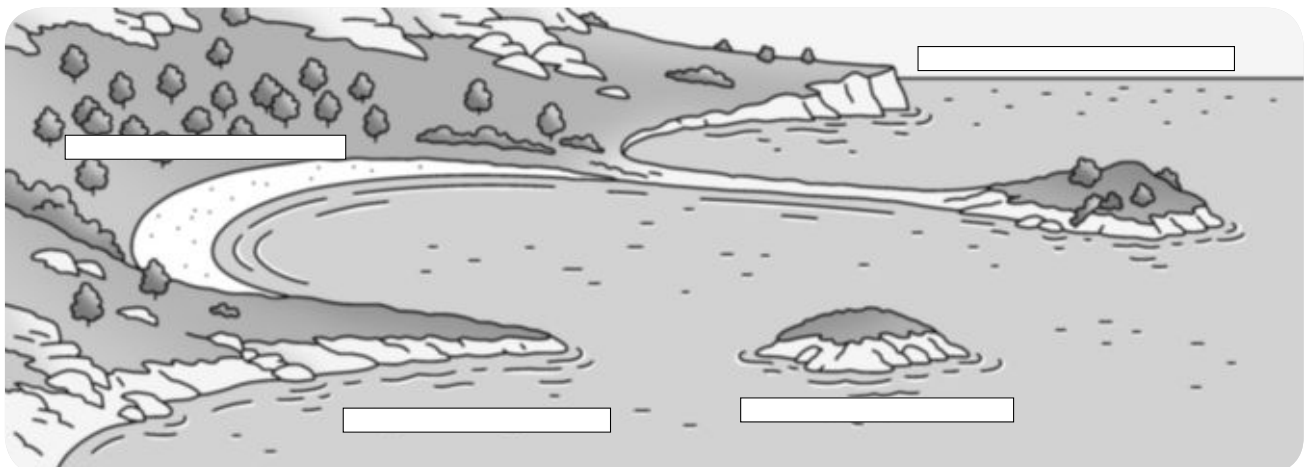
Corrente continua de auga doce ►

**2 Escribe nomes de elementos da paisaxe.**

Elementos naturais ►

Elementos construídos ►

**3 Escribe os nomes destas formas do relevo de costa.**



► Escribe outras formas do relevo de costa.

**4** Observa e describe os compoñentes deste ecosistema.



• O medio físico:



• Os seres vivos:



**5** En que se parecen e en que se diferencian estes ecosistemas? Escribe.





**6** Escribe V (verdadero) ou F (falso).

- Nas chairas non hai campos de cultivo nin vilas.
- Unha illa é unha extensión de terra completamente arrodeada polo mar.
- Cando as montañas chegan ao mar, na costa hai extensas praias de area.
- Un golfo é unha entrada do mar na terra.
- Unha serra é un conxunto de montañas.
- A parte máis elevada dunha montaña chámase cumio.



Nome \_\_\_\_\_ Data \_\_\_\_\_

**1** Que elementos ves nesta paisaxe? Escribe os seus nomes.





Elementos naturais ►

Elementos construídos ►

**2** Le e numera segundo corresponda.

1. Nesta paisaxe o terreo é principalmente plano, con algúns outeiros. Nel adoita haber grandes vilas e cidades.
2. Esta paisaxe encóntrase xunto ao mar. Adoita ter moitos habitantes, e nela hai praias, acantilados, cabos e illas.
3. As montañas son o elemento principal desta paisaxe; nela hai poucos habitantes e pódense ver vales, serras e bosques.



Nome \_\_\_\_\_ Data \_\_\_\_\_

**1** Le e escribe o título de cada recadro.

Un ecosistema está formado por dous compoñentes:  
os seres vivos e o medio físico.



\_\_\_\_\_

- Rochas.
- Neve.
- Regato.
- Montaña.

\_\_\_\_\_

- Piñeiros.
- Matogueira.
- Agua.
- Cervo.

**2** Observa e marca as características deste ecosistema. Despois, contesta.



Predomina a terra firme.

Predomina a auga.

É auga salgada.

É auga doce.

► Que ecosistema é e que seres vivos habitan nel? \_\_\_\_\_

\_\_\_\_\_