



XUNTA DE GALICIA

BOLETÍN SEMANAL ACTIVIDADES MATEMÁTICAS.

5º ED. PRIMARIA.

27/04/2020 ao 30/04/2020



CURSO 2019/2020



CEIP MANUEL SUEIRO


Nombre _____ Fecha _____

Recuerda


- Cuando las dos primeras cifras del dividendo forman un número mayor o igual que el divisor, se toman las dos primeras cifras del dividendo para comenzar a dividir.
- Cuando las dos primeras cifras del dividendo forman un número menor que el divisor, se toman las tres primeras cifras del dividendo para comenzar a dividir.

1. Coloca los números y calcula.


$7.104 : 32$




$4.325 : 27$




$9136:42$




$5640:15$




$3216:48$




$6054:63$



$4287:76$



$3772:92$



Nombre _____ Fecha _____


Recuerda

Cuando el divisor tiene tres cifras,
se toman las tres primeras cifras
del dividendo para comenzar


$$\begin{array}{r} 58969 \overline{) 324} \\ 2656 \quad 182 \\ \hline 0649 \end{array}$$

1. Coloca los números y calcula.


$$23.874 : 213$$




$$89.665 : 512$$




$$71.534 : 624$$




$$58.462 : 158$$




$$91.468 : 457$$




$$32.247 : 246$$



$$66.465 : 315$$



$$95.392 : 739$$



Cambios en los términos de una división

Nombre _____ Fecha _____

Recuerda

Si el dividendo y el divisor de una división se multiplican o se dividen por el mismo número, el cociente no varía, pero el resto queda multiplicado o dividido por dicho número.

1. Calcula y contesta.

$$5 \ 2 \overline{) 24}$$

Multiplica por 2

--	--

- ¿Ha variado el cociente? _____
- ¿Ha variado el resto? ¿Cómo ha variado? _____

$$3 \ 2 \ 7 \overline{) 18}$$

**Divide entre 3
el dividendo y divisor**

--	--

- ¿Ha variado el cociente? _____
- ¿Ha variado el resto? ¿Cómo ha variado? _____

$$4 \ 2 \ 8 \overline{) 24}$$

**Multiplica por 4
el dividendo y divisor**

--	--

- ¿Ha variado el cociente? _____
- ¿Ha variado el resto? ¿Cómo ha variado? _____

$$6 \ 2 \ 5 \overline{) 45}$$

**Divide entre 5
el dividendo y el divisor.**

--	--

- ¿Ha variado el cociente? _____
- ¿Ha variado el resto? ¿Cómo ha variado? _____

Nombre _____ Fecha _____

Recuerda

- Los pasos para resolver un problema son los siguientes:
- Comprender el enunciado y la pregunta que se plantea.
Pensar en qué operaciones hay que realizar.
 - Realizar las operaciones.

1. Resuelve los siguientes problemas.

- De un depósito que tiene 300 litros se ha sacado el aceite necesario para llenar 18 garrafas de 5 litros cada una. ¿Cuánto aceite queda en el depósito?

Solución: _____

- En una fábrica de golosinas hay 16.864 chicles que tienen que empaquetar en bolsas de 124 chicles cada una. ¿Cuántas bolsas necesitan?

Solución: _____

- Para comprar un coche, Iker paga 5.833 € de entrada y 36 cuotas de 171 € cada una. ¿Cuánto cuesta el coche?

Solución: _____