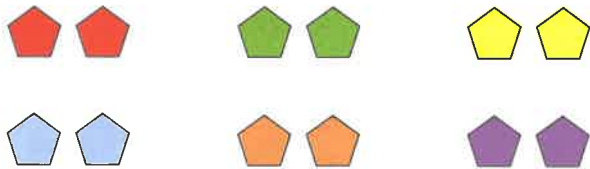


Las tablas del 2 y del 5


1 ¿Cuántos hay? Cuenta y completa.



$$\square \times \square = \square$$



$$\square \times \square = \square$$

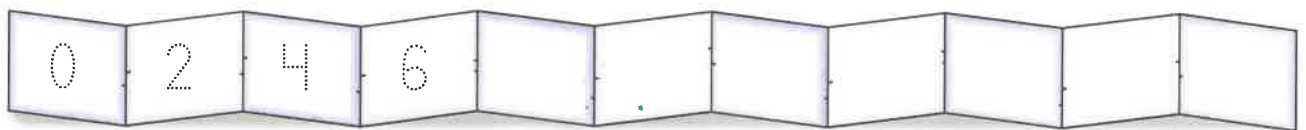


$$\square \times \square = \square$$



$$\square \times \square = \square$$

2 Completa las series y contesta.



- ¿Qué número has sumado cada vez?
- ¿De qué tabla son los números de esta serie?



- ¿Qué número has sumado cada vez?
- ¿De qué tabla son los números de esta serie?