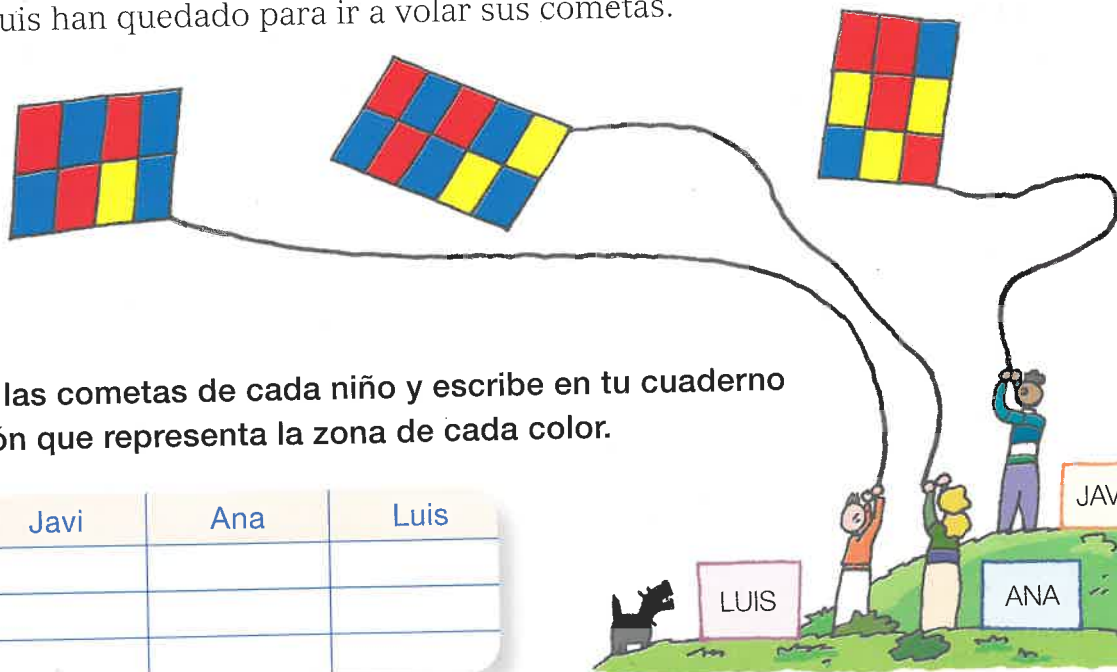





Repaso trimestral

Javi, Ana y Luis han quedado para ir a volar sus cometas.



- 1 Observa las cometas de cada niño y escribe en tu cuaderno la fracción que representa la zona de cada color.

	Javi	Ana	Luis
			
			
			

- 2 Escribe cómo se lee la fracción que representa la zona roja de cada cometa.
- 3 En cada cometa, ordena de menor a mayor las fracciones que representan las zonas de cada color.
- 4 Copia y completa la tabla en tu cuaderno. Después, escribe cómo se lee cada número.

	Parte entera		Parte decimal		
	Decenas	Unidades	Décimas	Centésimas	Milésimas
4,8					
35,06					
9,315					
45,072					
18,008					



- 5 Ordena los números y utiliza el signo adecuado.

De menor a mayor 

- 12,9 9,5 21,75
- 54,9 54,84 45,765
- 9,542 9,524 9,521

De mayor a menor 

- 5,865 7,65 9,6
- 21,83 21,38 24,9
- 5,782 5,872 5,827