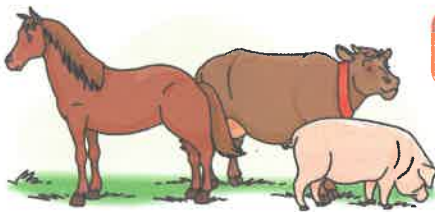


2 Observa los animales que hay en tres fincas y resuelve.




- ¿Cuántos animales hay en total en las tres fincas?



Datos


,  y 

Operación



Solución


- ¿Cuántos caballos más que vacas hay?



Datos


 y 

Operación



Solución


- ¿Cuántas vacas menos que cerdos hay?



Datos

 y 

Operación



Solución