











































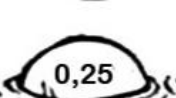




















TANTO POR CIENTO

Encuentra el mosquito que se va a comer la rana siguiendo el camino que te marcan los tantos por ciento.



- 10% de 30 20% de 50 30% de 120 40% de 50
 50% de 50 15% de 320 15% de 560
 25% de 400 16% 370 50% de 120
 12% de 510 24% de 400 2% de 46
 5% de 75 15% de 300 40% de 30
 75% de 84 12% de 675
 25% de 900

						
5	8	4	3	7	6	2
						
15	11	36	10	18	15	19
						
48	25	20	21	28,5	22	0,5
						
84	30	7	8,5	33	39	21
						
100	59,2	60	61,2	96	0,92	55
						
52,5	47	51	70	0,52	3,75	8,1
						
72	58	0,25	63	12	45	99
						
124	9,6	41	81	220	52	77
						
88	3,6	6,3	225	50	4,8	49
