


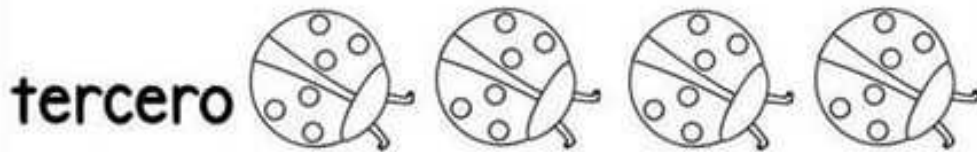


Números ordinales

-Colorea el que se indica.






Nombre: _____

Fecha: _____


❖ Dibuja una vela a la quinta y octava tarta.



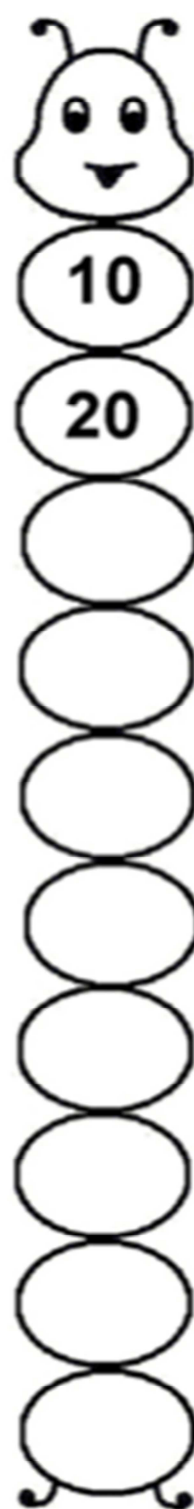
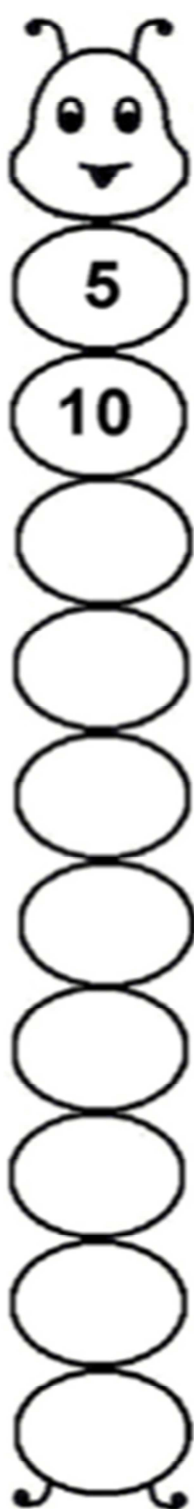
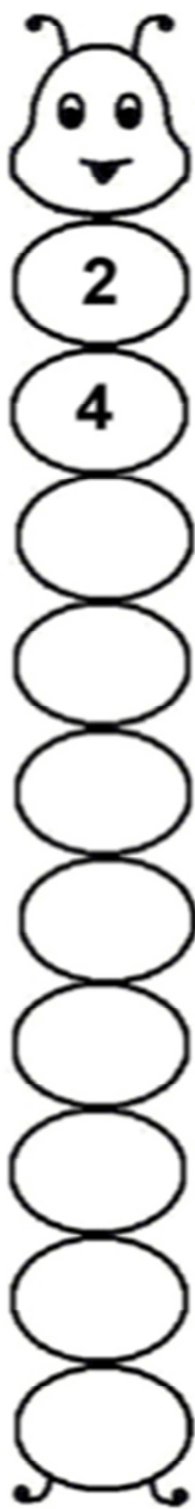
❖ Dibuja un globo al tercero y sexto niño .



❖ Dibuja un pez en la cuarta y sexta pecera.



Miércoles 1 de abril



Jueves 2 y viernes 3 de abril

Esta actividad es para usar mucho la cabeza y pensar, a ver quien es capaz de hacerla. Trabajamos los números anterior y posterior y a la vez los pares y los impares. ¡Ánimo que seguro que podéis!



par impar

Completa las siguientes tablas con las indicaciones que se señalan en cada una



PAR ANTERIOR	
	14
	25
	36
	12
	29

PAR ENTRE		
24		28
32		36
21		23
29		31
64		68

PAR POSTERIOR	
19	
35	
26	
17	
14	



IMPAR ANTERIOR	
	9
	27
	30
	19
	28

IMPAR ENTRE		
28		30
44		46
71		75
47		51
16		18

IMPAR POSTERIOR	
99	
25	
18	
47	
19	



PAR ANTERIOR	
	99
	85
	38
	17
	49

PAR ANTERIOR IMPAR SIGUIENTE		
	17	
	46	
	82	
	35	
	40	

IMPAR POSTERIOR	
69	
15	
75	
67	
24	