

Estimadas familias,

Esta semana, ademáis das fichas adxuntamos, enviamos dous enlaces a dúas páxinas web para os que teñades Internet. O primeiro enlace é unha páxina onde podedes atopar actividades interactivas de matemáticas. Tedes exercicios de todo tipo adaptados a tódolos niveis e necesidades. Esta semana poden practicar a contar de cinco en cinco, de dez en dez, números pares e impares, facer alguna suma e alguna resta.

<https://es.ixl.com/math/1-primaria>

O seguinte enlace é para fomentar a lectura e a iniciación á comprensión de textos. Nestes tempos tan complicados, pensamos que sería bo dedicarlle un pouco de tempo ás emocións, ós sentimentos. Aquí podedes atopar o libro en PDF e descárgalo.

[https://www.palabrasaladas.com/amar\\_en\\_cuarentena\\_por\\_el\\_coronavirus.html](https://www.palabrasaladas.com/amar_en_cuarentena_por_el_coronavirus.html)

Aquí podedes atopar as fichas para descargar. Pensamos que poden ler e facer fichas sobre:  
2: Cuidado, 10: Buen humor, 12: Optimismo, 21: Respeto 22: Tratar bien

[https://www.palabrasaladas.com/colorea\\_tu\\_mundo/fichas\\_de\\_actividades\\_amar.html](https://www.palabrasaladas.com/colorea_tu_mundo/fichas_de_actividades_amar.html)

# FICHAS DE MATEMÁTICAS. ACTIVIDADES DE REPASO

## PRIMEIRO DÍA

### 1. Calcula.

$\begin{array}{r} 30 \\ + 13 \\ \hline \square \end{array}$	$\begin{array}{r} 52 \\ + 34 \\ \hline \square \end{array}$	$\begin{array}{r} 64 \\ + 25 \\ \hline \square \end{array}$	$\begin{array}{r} 21 \\ + 33 \\ \hline \square \end{array}$	$\begin{array}{r} 72 \\ + 7 \\ \hline \square \end{array}$
---	---	---	---	--

$\begin{array}{r} 53 \\ - 21 \\ \hline \square \end{array}$	$\begin{array}{r} 19 \\ - 6 \\ \hline \square \end{array}$	$\begin{array}{r} 58 \\ - 16 \\ \hline \square \end{array}$	$\begin{array}{r} 75 \\ - 73 \\ \hline \square \end{array}$	$\begin{array}{r} 82 \\ - 61 \\ \hline \square \end{array}$
---	--	---	---	---

$\begin{array}{r} 95 \\ - 52 \\ \hline \square \end{array}$	$\begin{array}{r} 64 \\ - 62 \\ \hline \square \end{array}$	$\begin{array}{r} 42 \\ + 47 \\ \hline \square \end{array}$	$\begin{array}{r} 40 \\ - 10 \\ \hline \square \end{array}$	$\begin{array}{r} 43 \\ + 56 \\ \hline \square \end{array}$
---	---	---	---	---

$\begin{array}{r} 66 \\ + 30 \\ \hline \square \end{array}$	$\begin{array}{r} 49 \\ - 21 \\ \hline \square \end{array}$	$\begin{array}{r} 73 \\ + 4 \\ \hline \square \end{array}$	$\begin{array}{r} 60 \\ + 20 \\ \hline \square \end{array}$	$\begin{array}{r} 79 \\ - 64 \\ \hline \square \end{array}$
---	---	--	---	---

$\begin{array}{r} 90 \\ - 70 \\ \hline \square \end{array}$	$\begin{array}{r} 52 \\ + 27 \\ \hline \square \end{array}$	$\begin{array}{r} 97 \\ - 62 \\ \hline \square \end{array}$	$\begin{array}{r} 23 \\ + 47 \\ \hline \square \end{array}$	$\begin{array}{r} 89 \\ - 3 \\ \hline \square \end{array}$
---	---	---	---	--

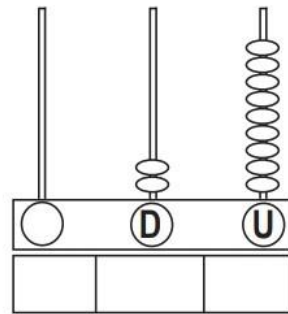
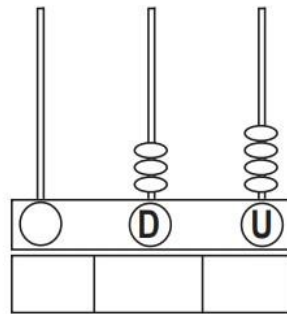
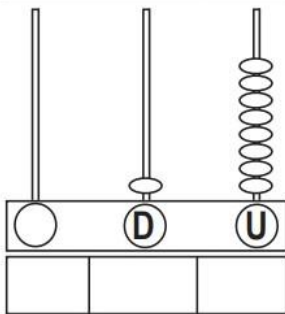
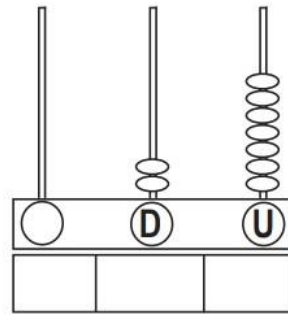
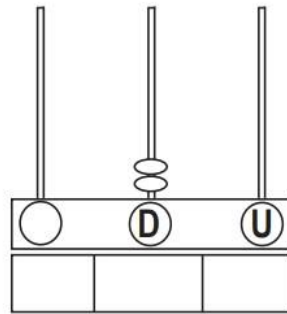
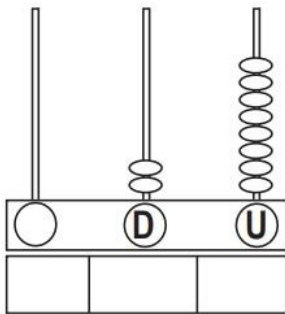
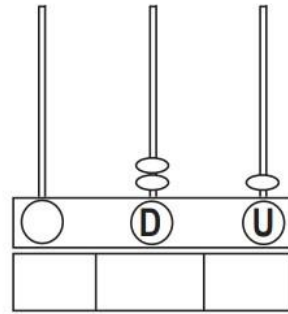
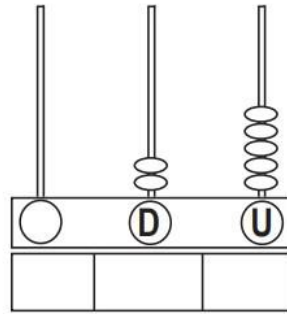
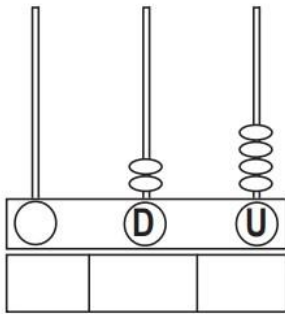
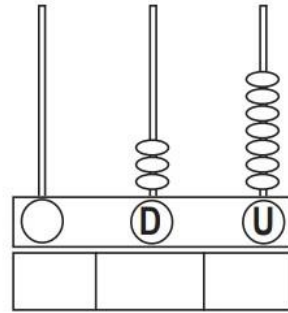
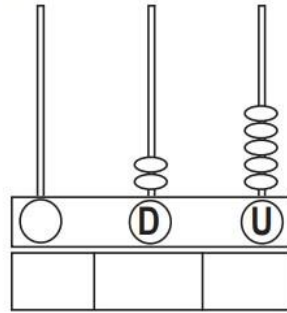
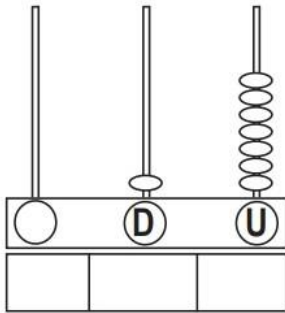
SEGUNDO DÍA

Nome: \_\_\_\_\_

Data: \_\_\_\_\_

**MATEMÁTICAS 1** | **1**

1.- Colorea e completa.



TERCEIRO DÍA

ESCRIBE ESTES NÚMEROS CON LETRA

24

49

7

15

36



2. Completa cos números que faltan.

10       16

22      28

35

40        47