


1. Rubén y Miguel tienen dieciséis colores entre los dos. De Miguel son nueve colores. Los otros colores son de Rubén. ¿Cuántos colores son de Rubén?

Datos:	Operación:
--------	------------

Solución: \_\_\_\_\_



2. Beatriz tiene 50 cromos y su amiga Patricia tiene 30. ¿Cuántos cromos tienen entre las dos?

Datos:	Operación:
--------	------------

Solución: \_\_\_\_\_

3. Eva tiene 20 rotuladores, Maite tiene 10 y Roberto 30. ¿Cuántos rotuladores tienen entre los tres?



Datos:	Operación:
--------	------------

Solución: \_\_\_\_\_



4. Leopoldo tiene diecinueve chocolates. Evaristo tiene cinco chocolates. ¿Cuántos chocolates más tiene Leopoldo que Evaristo?

Datos:	Operación:
--------	------------

Solución: \_\_\_\_\_

5. En un árbol hay 27 ardillas y en otro diez menos. ¿Cuántas ardillas hay en el otro árbol?



Datos:	Operación:
--------	------------

Solución: \_\_\_\_\_

6. En un corral hay 32 gallinas y en otro hay 11. ¿Cuántas gallinas hay entre los dos corrales?

Datos:	Operación:
--------	------------

Solución: \_\_\_\_\_





7. Valvanuz tiene 85 céntimos y compra una bolsa de pipas de 35 céntimos. ¿Cuánto dinero le queda?

Datos:	Operación:
--------	------------

Solución: \_\_\_\_\_



8. En un autobús hay 54 asientos. Si hay sentadas 30 personas. ¿Cuántos asientos quedan aún libres?

Datos:	Operación:
--------	------------

Solución: \_\_\_\_\_

9. Montserrat pesa 13 kilos y Francisco pesa 26 kilos. ¿Cuántos kilos pesan entre los dos?

Datos:	Operación:
--------	------------

Solución: \_\_\_\_\_





10. Óscar compró una muñeca por doce euros, una raqueta por diez euros y una camiseta por seis euros. ¿Cuántos euros tuvo que pagar?

Datos:	Operación:
--------	------------

Solución: \_\_\_\_\_



11. Isabel fue a la floristería a comprar 8 rosas, 7 tulipanes y 9 girasoles. ¿Cuántas flores compró en total?

Datos:	Operación:
--------	------------

Solución: \_\_\_\_\_

12. Lara y Álvaro están en un parque de atracciones. Lara se ha montado 15 veces en la montaña rusa y Álvaro solo 7. ¿Cuántas veces más se ha subido Lara que Álvaro?



Datos:	Operación:
--------	------------

Solución: \_\_\_\_\_



13. Aroa tenía veintitrés caramelos y le dio once a Martina. ¿Cuántos caramelos le quedan a Aroa?

Datos:	Operación:
--------	------------

Solución: \_\_\_\_\_

14. Eduardo tiene 38 libros. Vera tiene 12 libros menos que Eduardo. ¿Cuántos libros tiene Vera?



Datos:	Operación:
--------	------------

Solución: \_\_\_\_\_

15. Arancho plantó 17 plantas. Ricardo plantó 5 plantas más que Arancho. ¿Cuántas plantas plantó Ricardo?

Datos:	Operación:
--------	------------

Solución: \_\_\_\_\_






16. Rocío tiene 43 cromos, Hugo tiene 22 cromos y Nacho tiene 31 cromos. ¿Cuántos cromos tienen entre los tres?

Datos:	Operación:
--------	------------

Solución: \_\_\_\_\_

17. Mónica pescó seis peces. José pescó tres peces más que Mónica. ¿Cuántos peces pescó José?




Datos:	Operación:
--------	------------

Solución: \_\_\_\_\_

18. Irene tenía ocho manzanas y gastó 3 para hacer un pastel. ¿Cuántas manzanas le sobran?

Datos:	Operación:
--------	------------



Solución: \_\_\_\_\_



19. En mi portaplápices hay 23 lápices verdes y 14 lápices rojos. ¿Cuántos lápices hay en total?

Datos:	Operación:
--------	------------

Solución: \_\_\_\_\_

20. Carmen tenía nueve barras para vender. Ha vendido cuatro. ¿Cuántas barras le sobran?




Datos:	Operación:
--------	------------

Solución: \_\_\_\_\_

21. Manuel tiene 13 libros de cuentos, 3 libros de terror y 2 de aventuras. ¿Cuántos libros tiene en total?

Datos:	Operación:
--------	------------

Solución: \_\_\_\_\_





22. Emma ha cazado 16 ramas y las ha metido en un bote pero al llegar a su casa solo encuentra 5 ramas en el bote. ¿Cuántas se le han escapado?

Datos:	Operación:
--------	------------

Solución: \_\_\_\_\_

23. Almudena tiene que hacer 38 ejercicios de matemáticas y ya ha hecho 11. ¿Cuántos ejercicios le quedan por hacer?



Datos:	Operación:
--------	------------

Solución: \_\_\_\_\_

24. Un zapatero reparó 13 zapatos por la mañana y 12 por la tarde. ¿Cuántos zapatos reparó?

Datos:	Operación:
--------	------------

Solución: \_\_\_\_\_







25. Un pizzero repartió 8 pizzas por la mañana y 14 por la tarde. ¿Cuántas pizzas repartió en total?

Datos:	Operación:
--------	------------

Solución: \_\_\_\_\_

26. Soledad saca por la mañana 14 juguetes de una caja y por la tarde saca otros 25. ¿Cuántos juguetes saca Soledad a lo largo del día?



Datos:	Operación:
--------	------------

Solución: \_\_\_\_\_

27. En la familia de Ismael hay 62 primos de los cuales 31 son mujeres. ¿Cuántos hombres hay?

Datos:	Operación:
--------	------------

Solución: \_\_\_\_\_





28. En clase de Ana hay 26 alumnos y en clase de Silvia hay 32 alumnos. ¿Cuántos alumnos hay entre las dos clases?

Datos:	Operación:
--------	------------

Solución: \_\_\_\_\_

29. En un baúl hay 65 libros y el papá de Omar saca 15 para leerlos. ¿Cuántos libros quedan en el baúl?



Datos:	Operación:
--------	------------

Solución: \_\_\_\_\_

30. Jorge tiene 11 caramelos y vuelve a la tienda de golosinas a comprar otros 22. ¿Cuántos caramelos tiene ahora?



Datos:	Operación:
--------	------------

Solución: \_\_\_\_\_