

**TEST 4º. REPASO MATEMÁTICAS TEMA 4º**

Número	Criterio de divisibilidad	Ejemplo
<b>2</b>	Un número es divisible por 2 si termina en 0 o en cifra par.	52 es divisible por 2
<b>3</b>	Un número es divisible por 3 si la suma de sus cifras es un múltiplo de 3.	54 es divisible por 3
<b>4</b>	Un número es divisible por 4 si es par y su mitad es par.	72 es divisible por 4
<b>5</b>	Un número es divisible por 5 si termina en 0 o en 5.	75 es divisible por 5
<b>6</b>	Un número es divisible por 6 cuando es par y la suma de sus cifras es un múltiplo de 3.	96 es divisible por 6
<b>9</b>	Un número es divisible por 9 si la suma de sus cifras es un múltiplo de 9.	414 es divisible por 9
<b>10</b>	Un número es divisible por 10 si termina en 0.	230 es divisible por 10

1.-Calcula y subraya los números primos:

23 - 12 - 14 - 7 - 13 - 25 - 39 - 72 - 16

2.-Calcula todos los divisores de los siguientes números:

Divisores de 18 

Divisores de 24 

Divisores de 27 

3.-Un número, ¿es divisible por sí mismo? Y dos números, ¿tienen siempre algún divisor común?

4.- Aplica los criterios de divisibilidad y agrupa los siguientes números:

25	16	35	90	Divisibles por 2	
21	27	8	45	Divisibles por 3	
40	30	14	24	Divisibles por 5	
				Divisibles por 10	

5.-Martina está recogiendo las peras de los perales de su huerta. Ha recogido 90 kilos y los quiere envasar en bolsas. Tiene bolsas de 2 kilos, 3 kilos, 4 kilos y 5 kilos. ¿Qué tipo de bolsas podrá usar para que no le queden peras sin envasar?



6.- El profesor de gimnasia, pensando en el regreso a las aulas, quiere hacer grupos iguales con sus 28 alumnos. ¿De cuántas maneras podrá agruparlos para que no le quede ningún alumno sin grupo?

7.- El número de postales de fútbol que tiene Carlos es mayor que 90 y menor que 100. Si los agrupa de 2 en 2 no le sobra ninguno y si los agrupa de 3 en 3 le sobra uno. ¿Cuántos cromos puede tener Ramón?

8.- El día 1 de abril Begoña y Silvia han ido a la Sala de Reprografía (que es la sala donde se hacen las fotocopias). Begoña va allí cada 2 días y Silvia cada 6 días. ¿Cuántas veces irán cada una este mes? ¿Qué días coincidirán las dos?

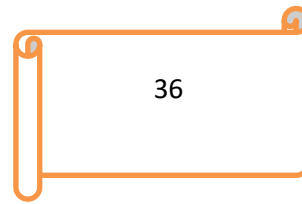
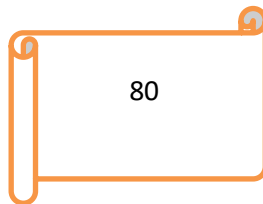



9.- María Amalia tiene un tablero rectangular de 60 cm de largo y 40 cm de ancho. Quiere cortarlo en trozos cuadrados, todos iguales y que sean lo más grandes posible. No debe sobrar nada del tablero. ¿Cuánto medirá el lado de esos trozos cuadrados?

10.- Calcula y subraya SI o NO:

¿Es 36 múltiplo de 3?	¿Es 48 múltiplo de 4?	¿Es 48 múltiplo de 5?
SI NO	SI NO	SI NO
¿Es 2 DIVISOR de 18?	¿Es 48 múltiplo de 6?	¿Es 92 múltiplo de 9?
SI NO	SI NO	SI NO

11.- Escribe todos los divisores de los siguientes números:



12.- De los siguientes números subraya los que sean divisibles por 2 y por 3 a la vez.

21 - 48 - 36 - 54 - 69 - 78

Aquí los que sean divisibles por 3 y por 5 a la vez.

18 - 44 - 20 - 75 - 84 - 90