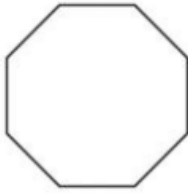


1) Observa el polígono y contesta:



- ¿Cuántos vértices tiene este polígono? _____
- ¿Cuántos lados tiene este polígono? _____
- ¿Cuál es su nombre? _____

2) Completa:

- Todos los triángulos tienen 3 lados, _____ vértices y _____ ángulos.
- Todos los pentágonos tienen _____ lados, _____ vértices y _____ ángulos.
- Todos los decágonos tienen _____ lados, _____ vértices y _____ ángulos.

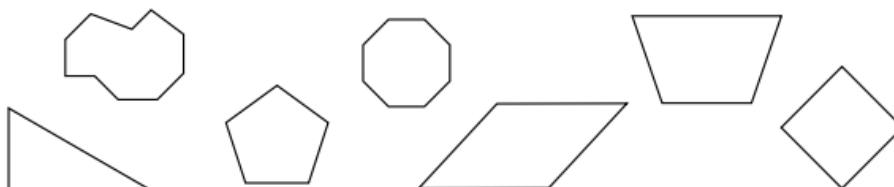
3) Rodea el polígono que ha pintada Beatriz:



4) Colorea:

rojo Polígonos regulares

azul Polígonos irregulares



5) Dibuja:

Un rectángulo cuyo lado menor mide 1 cm y su lado mayor mide 2 cm. ▶

Un heptágono de 2 cm de lado. ▶

Un pentágono cuyo perímetro es 7 cm y cuatro de sus lados miden 2 cm, 1 cm, 2 cm y 1 cm. ▶

Un cuadrilátero cuyo perímetro es 8 cm y uno de sus lados mide 2 cm. ▶

6) Resuelve:

✚ Cuatro novenos más seis novenos más un noveno:

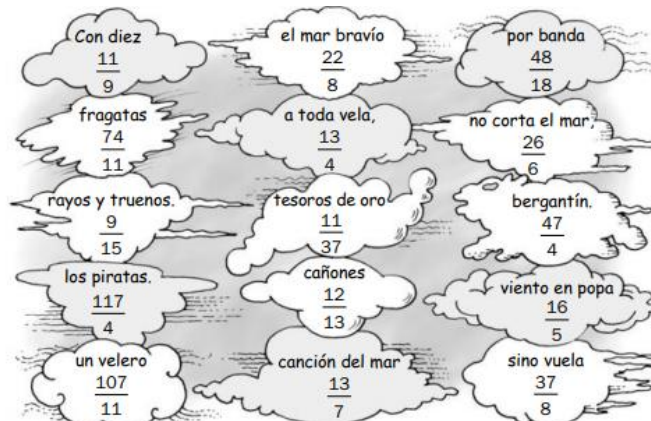
✚ Veinticinco treceavos menos trece treceavos:

✚ Setenta y siete cuartos menos treinta cuartos:

7) Calcula:

$$\begin{array}{lll} \bullet \frac{37}{18} + \frac{11}{18} = \text{---} & \bullet \frac{2}{4} + \frac{3}{4} + \frac{8}{4} = \text{---} & \bullet \frac{72}{11} + \frac{35}{11} = \text{---} \\ \bullet 3 + \frac{1}{5} = \text{---} & \bullet 5 - \frac{4}{6} = \text{---} & \bullet \frac{25}{8} + \frac{12}{8} = \text{---} \end{array}$$

8) Colorea las nubes que tienen las soluciones de las actividades 6 y 7:







9) Lee y averigua qué número puede ser:

- Es un número mayor que 4 y menor que 5.
- Tiene dos cifras decimales.
- El producto de sus dos cifras decimales es igual a 12.
- La suma de sus dos cifras decimales es igual a 7.
- Es un número capicúa.

El número es ►

10) Ordena estos productos de menor a mayor según el peso:

			
Queso manchego • Peso: 0,280 kg • Precio: 3,50 €	Salchichón • Peso: 0,150 kg • Precio: 0,96 €	Jamón • Peso: 0,250 kg • Precio: 9,45 €	Queso de bola • Peso: 0,420 kg • Precio: 3,57 €

_____ ○ _____ ○ _____ ○ _____

■ Ahora, ordena los precios de mayor a menor.

_____ ○ _____ ○ _____ ○ _____

11) La mitad de un curso solo practica fútbol. Las cuatro quintas partes de la otra mitad del curso practica baloncesto y el resto practica voleibol. ¿Qué porcentaje del curso practica cada deporte?

12) Observa la tabla y marca con una X el rectángulo que tiene 26 cm de perímetro y 36 cm cuadrados de superficie:

	LARGO	ANCHO	
Rectángulo 1 ►	9 cm	4 cm	<input type="checkbox"/>
Rectángulo 2 ►	10 cm	3 cm	<input type="checkbox"/>
Rectángulo 3 ►	12 cm	3 cm	<input type="checkbox"/>
Rectángulo 4 ►	18 cm	2 cm	<input type="checkbox"/>