


ACTIVIDADES DE SOCIAIS



**AS PAISAXES
OS ECOSISTEMAS**


2º NIVEL DE ED. PRIMARIA

**CEIP EMILIA PARDO BAZÁN
A CORUÑA**

EQUIPO A TODO FILISPÍN



AS PAISAXES



PAISAXES DE COSTA

**A COSTA É A PARTE DA TERRA QUE ESTÁ PRETO DO MAR.
A COSTA PODE SER ALTA OU BAIXA.**

-A COSTA BAIXA É CHAN. NELA HAI PRAIAS DE AREA OU DE SEIXOS.

-A COSTA ALTA ESTÁ ELEVADA SOBRE O MAR E NELA HAI CANTÍS CON ROCHAS.

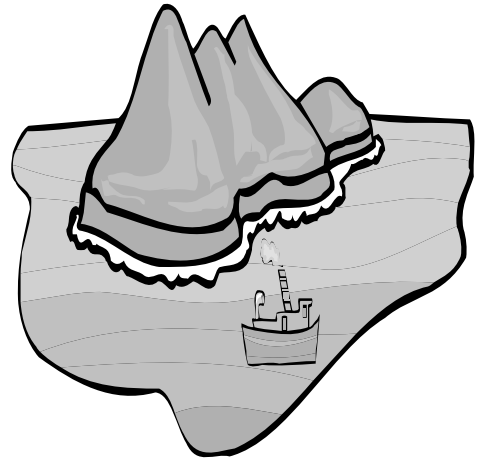
1.- Relaciona e colore a da mesma cor.

TERREO CHAN	COSTA BAIXA	PRAIAS DE SEIXOS
TEN PRAIAS		PRAIAS DE AREAS
ESTÁ ELEVADA	COSTA ALTA	TEN CANTÍS CON ROCHAS
HAI CANTÍS		

FORMAS NAS PAISAXES DE COSTA

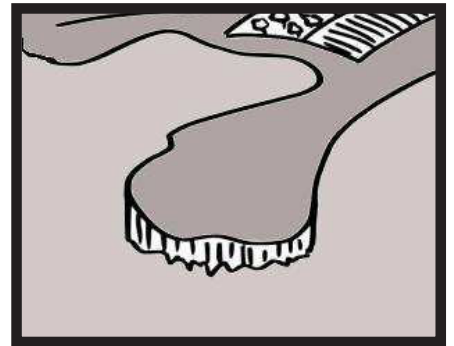
ILLA

PORCIÓN DE TERRA ARRODEADA DE AUGA POR TODAS PARTES. UN GRUPO DE ILLAS FORMA UN ARQUIPÉLAGO.




PENÍNSULA

PORCIÓN DE TERRA ARRODEADA DE AUGA POR TODAS PARTES AGÁS POR UNHA.




CABO

PORCIÓN DE TERRA QUE ENTRA NO MAR.



GOLFO-BAÍA

ENTRADA DO MAR NA TERRA. SE É PEQUENA CHÁMASE BAÍA.



1.- Relaciona e colore a da mesma cor.



ENTRADA DO MAR NA TERRA.



PORCIÓN DE TERRA ARRODEADA DE AUGA POR TODAS PARTES AGÁS POR UNHA.



UN GRUPO DE ILLAS.


PORCIÓN DE TERRA ARRODEADA DE AUGA POR TODAS PARTES.




PORCIÓN DE TERRA QUE ENTRA NO MAR.



ENTRADA PEQUENA DO MAR NA TERRA.



AS PAISAXES



PAISAXES DE INTERIOR

ESTÁN SITUADAS LONXE DO MAR.

PODEN SER:

-DE MONTAÑA

-DE CHAIRA.

PAISAXES DE MONTAÑA

O seu elemento principal son as montañas, que son grandes elevacións de terreo. Poden estar soas sou agrupadas,

Se as montañas están unhas detras das outras forman unha serra.

Entre as montañas hai terreos chans que se denominan vales.

As localidades de montaña soen ser pequenas e as estradas estreitas e con curvas.

1.- Que é unha montaña?

2.- Colorea a resposta verdadeira. Se as montañas están unhas detrás de outras, forman unha...



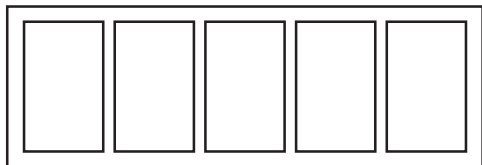

FERVENZA

SERRA

CANTEIRA

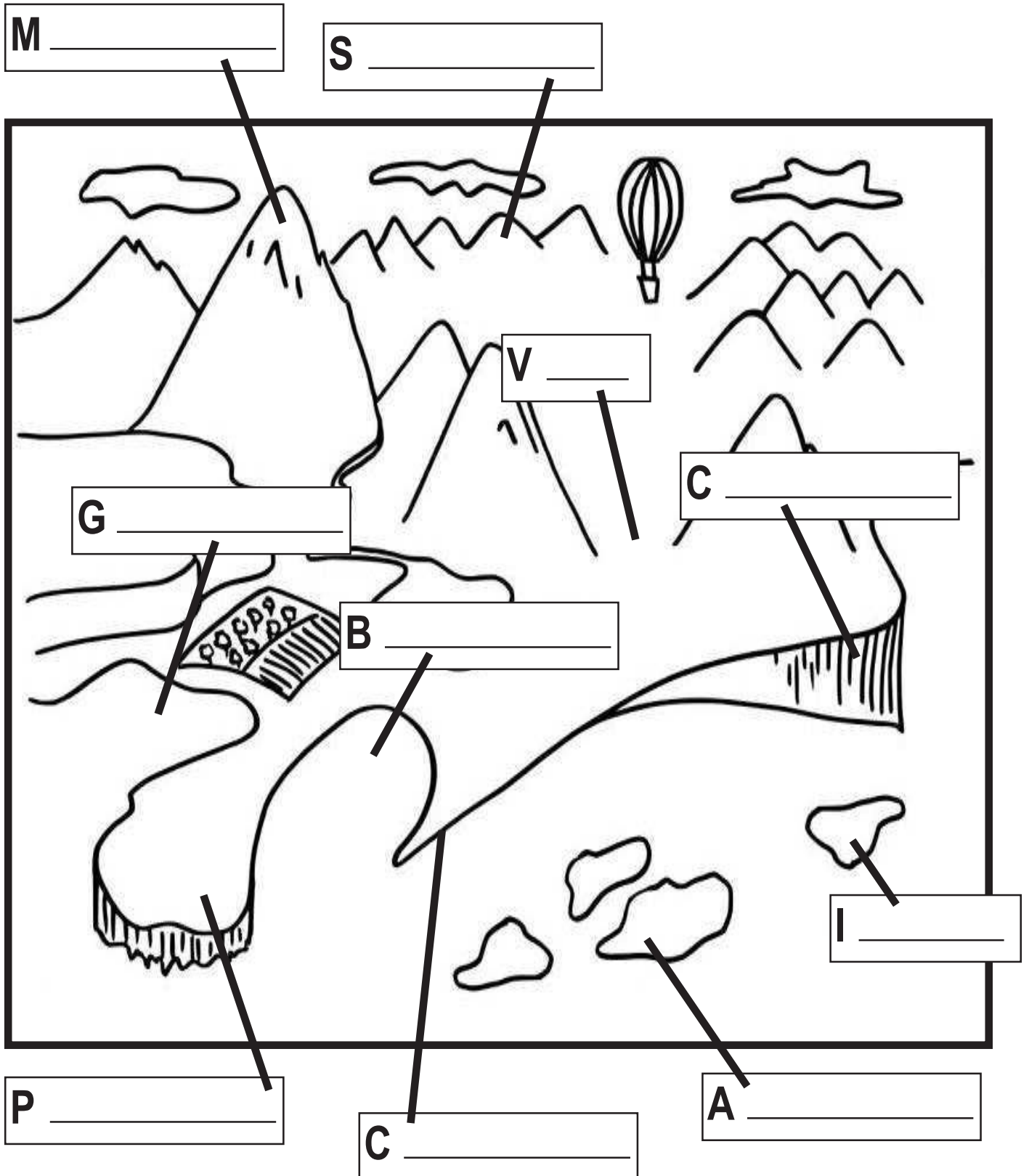
3.- Coloca cada nome onde lle corresponda e colorea.

MONTAÑA PAISAXE DE MONTAÑA VAL SERRA




2.- Coloca cada nome onde lle corresponda. Colorea.

serra península illa baía val cantil
arquipélago golfo cabo montaña



AS PAISAXES




PAISAXES DE CHAIRA

O TERREO É CHAN, AÍNDA QUE ÁS VECES HAI PEQUENAS ELEVACIÓNS QUE SE DENOMINAN OUTEIROS, QUE SON MONTAÑAS DE POUCA ALTURA.

NAS CHAIRAS HAI ALDEAS, VILAS E CIDADES.

ARREDOR DAS ALDEAS E DAS VILAS HAI CAMPOS DE CULTIVO E TAMÉN GRANXAS DE ANIMAIS.

1.- Copia e ordena estes núcleos de poboación. Colorea.

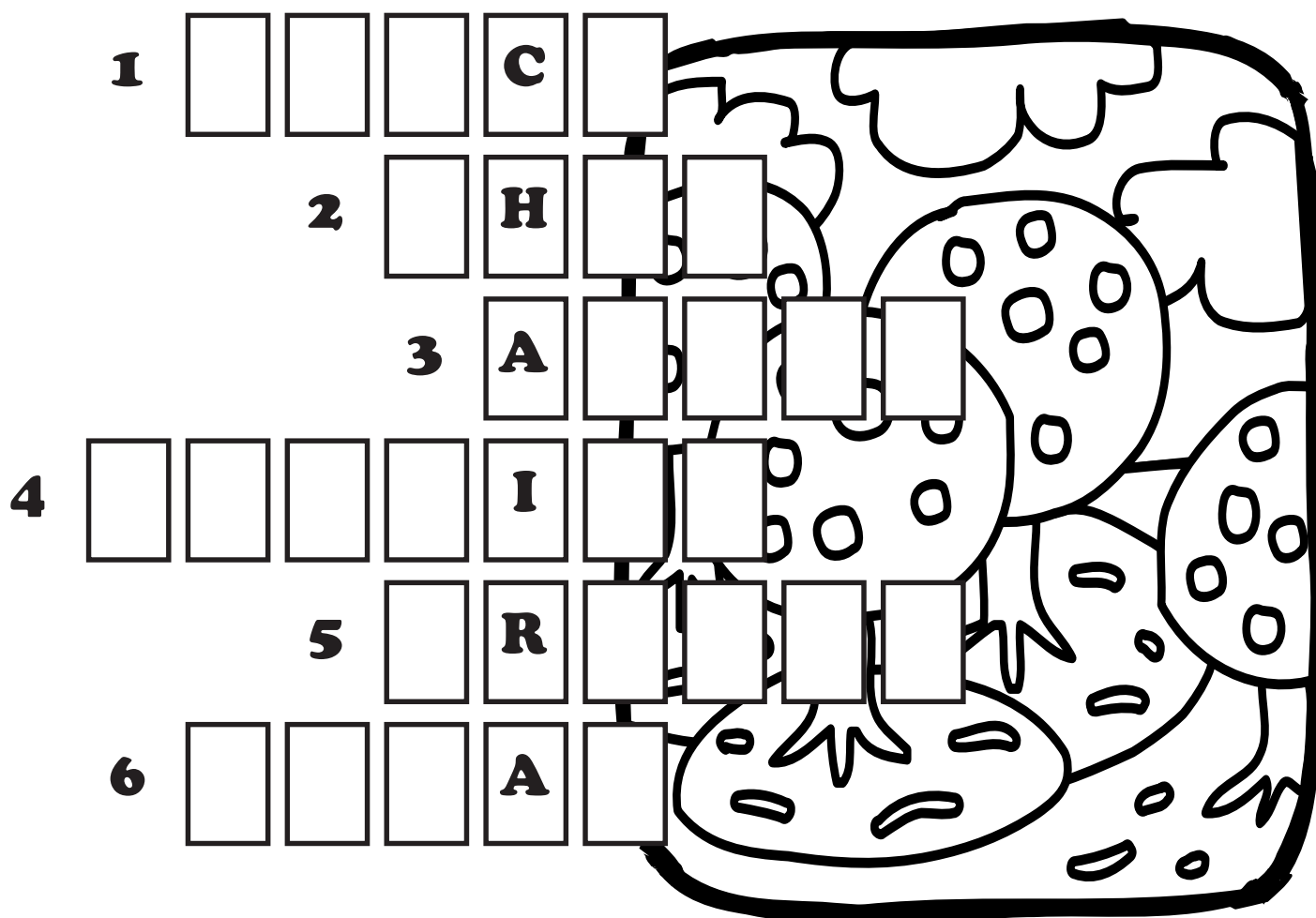


ALDEA

VILA

CIDADE

2.- Resolve este encrucillado relacionado coas paisaxes de interior.




HORIZONTAIS

- 1.- Altura que teñen os outeiros.
- 2.- Tipo de terreo das chairas.
- 3.- Tipo de poboación pequena que hai nas chairas.
- 4.- Pequenas elevacións que hai nas chairas, de pouca altura.
- 5.- Establecemento dedicado á cria de animais: vacas, galiñas, ovellas... que hai preto das aldeas e das vilas.
- 6.- Poboación de tamaño entre unha aldea e unha cidade.

1.-POUCA 2.-CHAN 3.-ALDEA 4.-OUTEIRO 5.-GRANXA 6.-VILAS

OS ECOSISTEMAS


NO NOSO PLANETA HAI ESPAZOS NATURAIS MOI DIFERENTES: BOSQUES, DESERTOS, SELVAS, SABANAS, RÍOS, MARES, LAGOS, PRADARÍAS, FOCHAN-CAS... E EN CADA UN DELES VIVEN ANIMAIS E PLANTAS DIFERENTES. CADA UN DESTES ESPAZOS FORMA UN ECOSISTEMA.




1.- Colócalle o nome a cada ecosistema. Colorea.

SELVA DESERTO MAR BOSQUE


	A	
--	----------	--



					T	
--	--	--	--	--	----------	--



			Q		
--	--	--	----------	--	--




		L		
--	--	----------	--	--

2.- Localiza nesta sopa de letras o nome dos ecossistemas.

FOCHANCA
LAGO
SELVA
DESERTO
MAR
BOSQUE
SABANA
RÍO
PRADARÍA

X	F	B	V	Z	S	N
C	O	M	H	L	A	D
P	C	N	D	G	B	E
R	H	L	B	H	A	S
A	A	L	O	Z	N	E
D	N	A	S	M	A	R
A	C	G	Q	X	V	T
R	A	O	U	R	I	O
I	C	S	E	L	V	A
A	B	M	X	C	N	Z

3.- A que ecossistema pertence este camelo? Completa e coloreia.



D						
----------	--	--	--	--	--	--

ACTIVIDADES DE SOCIAIS

FICHAS DE REFORZO

Nome:

Data:

Coñecemento medio 2

1. Observa o debuxo e escribe cada palabra no seu lugar. Despois, contesta.


río

montaña

bosque

prado

aldea



• Como son as aldeas na montaña?

• Cantas persoas viven nelas?

2. Escribe cada palabra onde corresponda.

neve ponte túnel montaña aldea río

Elementos
naturais

Elementos feitos
polas persoas

Nome:

Data:

3. Observa o debuxo e contesta.



• Que é unha praia?

• Que é un acantilado?

4. Marca cun X a resposta correcta.

• Nas paisaxes de montaña hai montañas, bosques, pastos e...

praias.

ríos estreitos.

• A costa é a parte da terra que está á beira...

do mar.

dunha montaña.

• Nas costas viven...

moitas persoas.

poucas persoas.

5. Arrodea na sopa de letras os catro puntos cardinais. Despois, escríbeos.

N	O	R	T	E	Q
Ñ	E	T	E	T	L
P	S	A	G	N	E
E	T	N	H	E	S
V	E	C	B	X	T
S	X	S	U	R	E

•

•

•

•