


□ Resuelve.

En la estantería de la clase hay 5 libros. Marta ha traído 2 libros más.

¿Cuántos libros hay ahora?



「Me piden averiguar」

「Sé que」 Había
Marta ha traído.....

「Tengo que」 A 5 libras

Operación

「Solución」 Ahora hay

Luis ha traído 6 galletas para el recreo y le da a su amigo Jaime 2. ¿Cuántas galletas le quedan a Luis?



「Me piden averiguar」


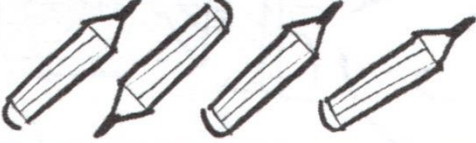






「Sé que」
.....

「Tengo que」

Operación

「Solución」

El profesor está repartiendo el material. Dibuja lo que falta en el cuadro y completa el enunciado del problema.

Tenía	Me dan	Ahora tengo
		
		
		
		

「Me piden averiguar」


「Sé que」 Tenía
Me dan

「Tengo que」 Sumar

Operación

「Solución」

Un grupo de 20 peces va nadando por el río hasta el mar.
Si ya han llegado al mar 10, ¿cuántos peces faltan por llegar?



「Me piden averiguar」

「Sé que」
.....

「Tengo que」

Operación

「Solución」

En el cesto había 15 nueces. Mercedes y su hermano se han comido algunas. ¿Cuántas nueces quedan en el cesto?



「Me piden averiguar」

「Sé que」 Había
Mercedes comió.....
Su hermano comió.....
Entre los dos comieron.....

「Tengo que」
Operación

「Solución」

Para preparar estas mermelada hemos utilizado 5 manzanas, 8 peras y 6 melocotones. ¿Cuántas piezas de fruta hemos utilizado en total?



「Me piden averiguar」

「Sé que」 Hemos utilizado
.....
.....

「Tengo que」

Operación

「Solución」

Después de comer, había 12 platos y 5 vasos en la mesa.
Al recogerla entre todos, a Alex se le rompieron 2 platos.
¿Cuántos platos quedan ahora?



Me piden averiguar

Piensa: ¿Quedarán más o menos platos?

Sé que Señala los datos que te interesan.

- Había 12 platos.
- Había 5 vasos.
- Se rompen 2 platos.

Tengo que A los platos que había.....

Operación

Solución

Resuelve.

Antía tenía en su hucha 35 euros. Por su cumpleaños gastó 13 euros. ¿Cuántos euros tiene ahora la hucha?

DATOS:

OPERACIÓN

SOLUCIÓN:



Resuelve.

Un naranjo tenía 56 naranjas y cayeron al suelo 20.
¿Cuántas naranjas quedaron en el árbol?

DATOS:

OPERACIÓN:

SOLUCIÓN:



Resuelve.

En una planta hay 12 flores y en otra hay 19 flores y 4 frutos.
¿Cuántas flores tienen entre las dos plantas?

DATOS:

OPERACIÓN:

SOLUCIÓN:



Resuelve.


En una granja una gallina tuvo 7 pollitos y otra gallina tuvo 8 pollitos.

¿Cuántos pollitos tuvieron entre las dos gallinas?

DATOS:

OPERACIÓN:

SOLUCIÓN:




Resuelve.

En un parque había 59 niños y niñas. Ahora solo quedan 35.
¿Cuántos niños y niñas se han ido a casa?

DATOS:

OPERACIÓN:

SOLUCIÓN:



Resuelve.

Había 37 personas esperando el tren. Llegaron 25 personas más. ¿Cuántas personas hay ahora esperando el tren?

DATOS:

OPERACIÓN:

SOLUCIÓN:



Resuelve.

Hoy llueve. He salido a la calle y he contado a 48 personas con paraguas. De ellas, 36 personas lo llevaban abierto.
¿Cuántas personas llevaban el paraguas cerrado?

DATOS:

OPERACIÓN:

SOLUCIÓN:



Resuelve.

En una estantería hay 78 libros. En otra hay 64.
¿Cuántas libros más hay en la primera estantería?

DATOS:

OPERACIÓN:

SOLUCIÓN:



Resuelve.

En mi despensa hay dos botes de aceitunas. El bote grande tiene 86 aceitunas y el pequeño, 43.


¿Cuántas más aceitunas tiene el bote grande?


DATOS:


OPERACIÓN:

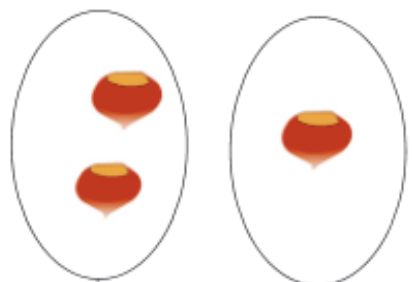
SOLUCIÓN:

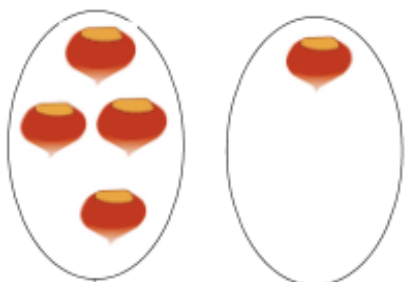


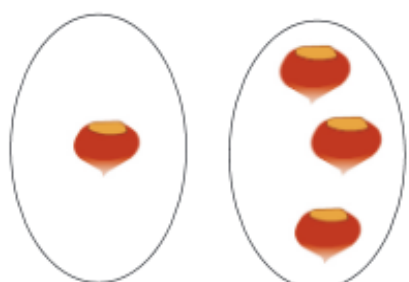

$$\square + \square = \square$$

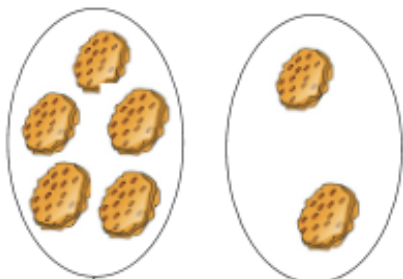

$$\square + \square = \square$$

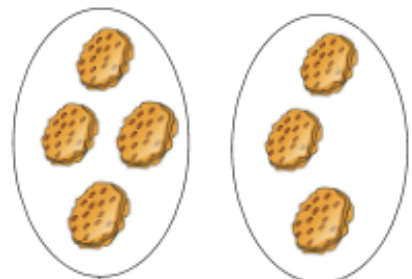

$$\square + \square = \square$$

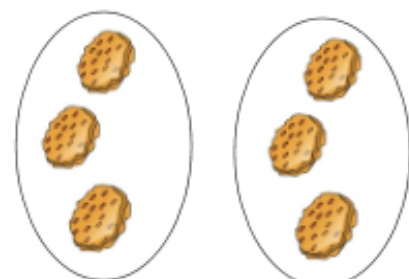

$$\square + \square = \square$$


$$\square + \square = \square$$


$$\square + \square = \square$$


$$\square + \square = \square$$


$$\square + \square = \square$$


$$\square + \square = \square$$