

## SEMANA DEL 14 DE MARZO AL 17 DE ABRIL

*Podéis distribuir el trabajo por día según vuestra disponibilidad*

### **Rutinas que podemos realizar todos los días**

Recordar que lo primero que hacíamos al comenzar la clase era irnos a nuestra recta numérica y contar los números del 1 al 20.

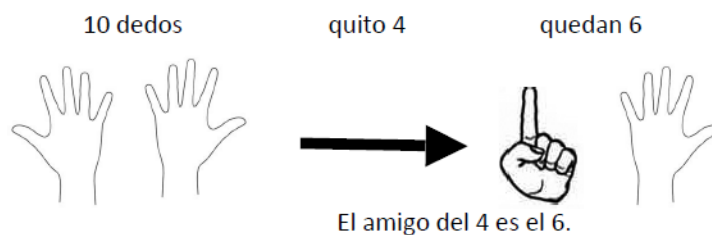


- Intentar hacer lo mismo en casa, aunque no tengais los numeros en el suelo. (y si teneis la posibilidad de dibujarlos en el suelo sería mucho mejor)
- Contar de dos en dos, de tres en tres, etc.
- Contar en sentido ascendente (1-20).
- Contar en sentido descendente (20- 1).
- Nos situamos en un número y contamos cuánto falta para el 10 (amigos del 10).



<https://www.youtube.com/watch?v=BOXHXK-MITU>

Amigo del cuatro:



- Contar de 10 en 10 hasta 100
- Contar de 100 en 100 hasta 900

## Martes 14

Esta semana empezaremos con la unidad 8 “Zumo de naranja”, en la página 143 tenemos un audio, presta atención y responde a las preguntas. **AUDIO**



## Miércoles 15

En **snappet** encontrareis más actividades para practicar lo de hoy

Hoy trabajaremos la página 144 donde trabajaremos los números del 700 al 799. En la actividad 1 solo tienes que repasar los números, luego completa las actividades 2.

Ahora en tu **cuaderno de matemáticas** realiza la página 28 en la que seguiremos repasando los números.

## Jueves 16

En **snappet** encontrareis más actividades para practicar lo de hoy

Antes de empezar con el libro y las multiplicaciones del 3 y el 6, vamos a practicar las tablas anteriores Tabla del 1, 2, 4, 5 y del 10. Os dejo unos videos de multiplicaciones en la web del cole

## Viernes 17


En **snappet** encontrareis más actividades para practicar lo de hoy

Hoy trabajaremos la página 145 donde trabajaremos las tablas del 3 y del 6, haremos los ejercicios 1 y 2

**Pregunta 1**

Andrés le ha regalado a Yin NARANJAS

**Pregunta 2**



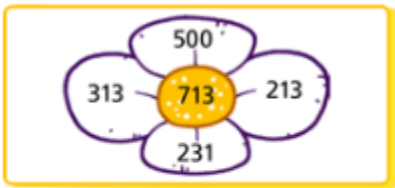
**Pregunta 3**

Respuesta libre

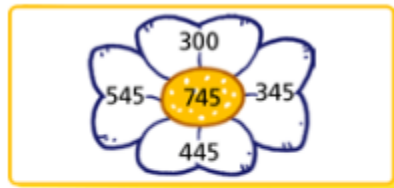
ACTIVIDAD 1

- 732 → setecientos treinta y dos
- 721 → setecientos veintiuno
- 769 → setecientos sesenta y nueve
- 785 → setecientos ochenta y cinco

ACTIVIDAD 2



$$713 = \underline{500} + \underline{213}$$



$$745 = \underline{300} + \underline{445}$$

ACTIVIDAD 1

7 C + 2 D + 5 U →

7 C + 8 D →

7 C + 9 U →

7 C + 1 D + 6 U →

ACTIVIDAD 2

<  <  <

ACTIVIDAD 3

El número .

ACTIVIDAD 4

765 → 756, 657, 675, 567 y 576.

734 → , , ,  y .

725 → , , ,  y .

746 → , , ,  y .

713 → , , ,  y .

SOLUCIONES DE LOS EJERCICIOS PÁGINA 145

ACTIVIDAD 1

- 12 → 2 x 3 2 x 6 5 x 3 4 x 3 9 x 6
- 24 → 3 x 3 7 x 6 8 x 3 5 x 6 4 x 6
- 18 → 7 x 3 3 x 6 9 x 3 6 x 3 6 x 6

ACTIVIDAD 1

$630 + 100 = 730$

●  $310 + 100 = 410$

●  $470 + 100 = 570$

●  $280 + 100 = 380$

●  $520 + 100 = 620$