

SEMANA DEL 14 DE MARZO AL 17 DE ABRIL

Podéis distribuir el trabajo por día según vuestra disponibilidad

Rutinas que podemos realizar todos los días

Recordar que lo primero que hacíamos al comenzar la clase era irnos a nuestra recta numérica y contar los números del 1 al 20.

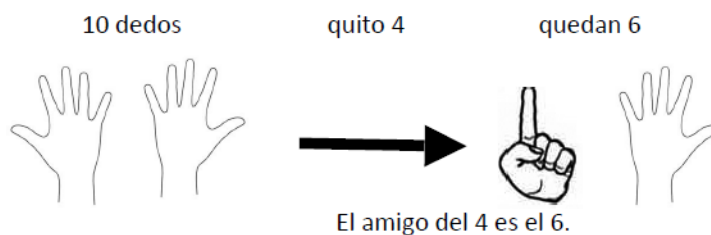


- Intentar hacer lo mismo en casa, aunque no tengais los numeros en el suelo. (y si teneis la posibilidad de dibujarlos en el suelo sería mucho mejor)
- Contar de dos en dos, de tres en tres, etc.
- Contar en sentido ascendente (1-20).
- Contar en sentido descendente (20- 1).
- Nos situamos en un número y contamos cuánto falta para el 10 (amigos del 10).



<https://www.youtube.com/watch?v=BOXHXK-MITU>

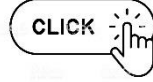
Amigo del cuatro:



- Contar de 10 en 10 hasta 100
- Contar de 100 en 100 hasta 900

Martes 14

Esta semana empezaremos con la unidad 8 “Muchas Felicidades”, en la página 143 tenemos un audio, presta atención y responde a las preguntas. **AUDIO**



Miércoles 15

En **snappet** encontrareis más actividades para practicar lo de hoy

Hoy trabajaremos las páginas 144 y 145 donde trabajaremos los números del 90 al 99. En la actividad 1 solo tienes que repasar los números, luego completa las actividades 2, 3 y 4

Jueves 16

En **snappet** encontrareis más actividades para practicar lo de hoy

Seguimos repasando los números del 90 al 99, pero esta vez haremos los **ejercicios del cuaderno** de las páginas 28 y 29

Viernes 17

En **snappet** encontrareis más actividades para practicar lo de hoy

Vamos a comparar números de dos cifras, en las páginas 146 y 147 de tu libro tienes 5 actividades que puedes hacer

Pregunta 1

Quieren jugar 7 niños al pilla pilla

Quieren jugar 8 niños al escondite

Pregunta 2

Respuesta libre

Pregunta 3

$$7 + 8 = 15$$

Hay en total 15 niños para jugar

ACTIVIDAD 2

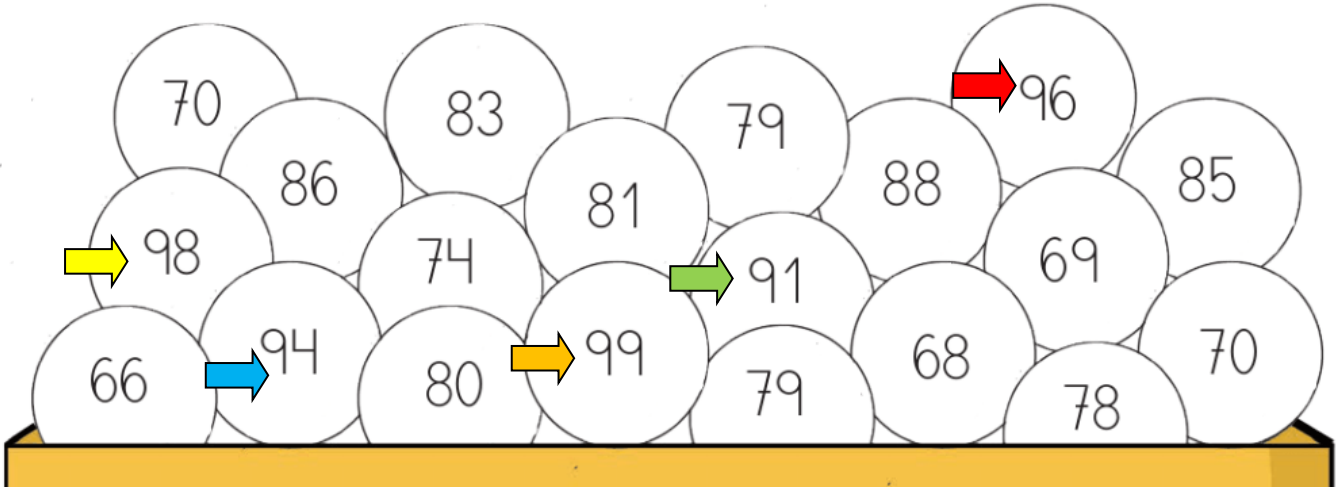
● 96

● 91

● 98

● 94

● 99



ACTIVIDAD 3

$$54 + 41 = \boxed{95}$$

$$25 + 73 = \boxed{98}$$

$$36 + \boxed{61} = 97$$

$$\boxed{52} + 43 = 95$$

ACTIVIDAD 4

- 91 92 ~~83~~ 94 95 96 ~~77~~ 98 89

ACTIVIDAD 1

90 → noventa

94 → noventa y cuatro


96 → noventa y ocho

98 → noventa y seis

ACTIVIDAD 2

● → La cifra de las unidades es 9.

● → La cifra de las decenas es 9.



ACTIVIDAD 3

95 96 97 90 91 92 97 98 99

ACTIVIDAD 4

Tiene 9 D y 6 U. 

Tiene 3 D más que 45. 

Está entre el 90 y el 92. 

Tiene 4 U más que 95. 

ACTIVIDAD 5

$26 + 71 = \text{input type="text" value="97"}$

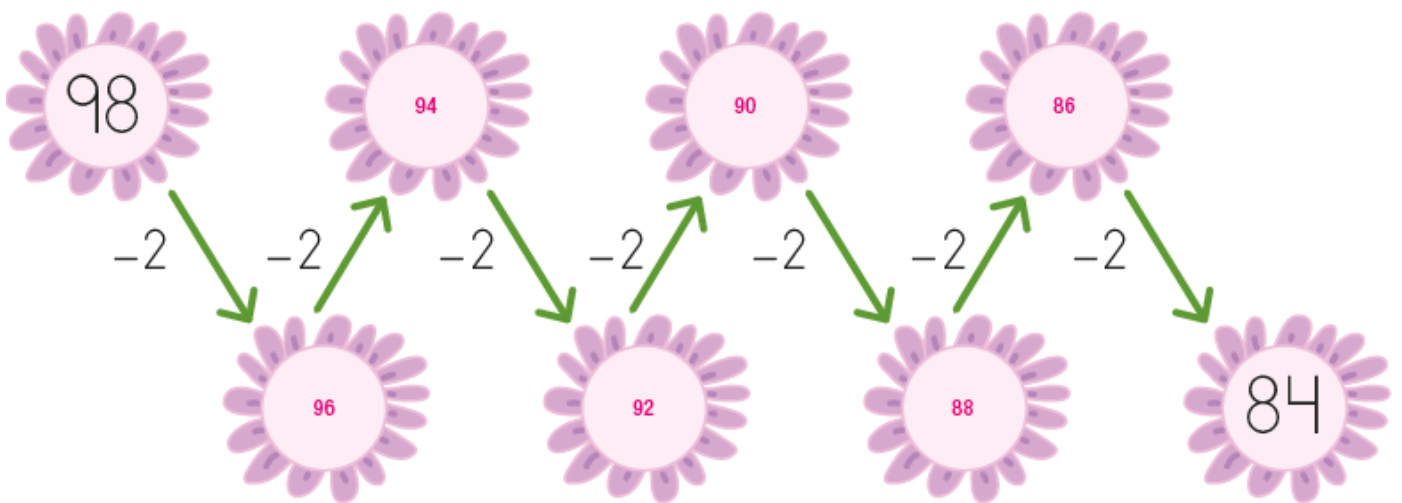


$\text{input type="text" value="45"} + 54 = 99$

$65 + \text{input type="text" value="33"} = 98$

$50 + 41 = \text{input type="text" value="91"}$

ACTIVIDAD 6




Pregunta 1

47 es mayor que 34 → 47 34

15 es menor que 19 → 15 19

61 es menor que 78 → 61 78

Pregunta 2



Pregunta 3



10



99

Pregunta 4

55 59

86 89

78 72

93 91

79 66

47 42

Pregunta 5

Respuesta libre