

2º

primaria

Semana do 1 ao 5 de xuño

Lingua galega

Matemáticas

Ciencias sociais

LUNS 1 DE XUÑO

- Le ou escoita a historia inicial do tema 11, páxinas 204 e 205 do teu libro.
- Despois realiza as actividades relacionadas coa historia das páxinas 206 e 207.



11. Donovan, o unicornio



PÁX. 64



PISTA 32

—Hihihi! —rían as bolboretas tapando a cara. —É certo! Donovan volveu. É guapísimo!

Toda a charca estaba revolucionada. Donovan, o unicornio máis famoso do cinema, volveu á súa casa, á Charca Máxica. Deixara todo e estaba profundamente triste. Lúa e o tío Serafín sabían que atender a unha estrela ía ser cousa complicada.

—Oh! Que triste estou! —explicáballes Donovan aos nosos amigos mirando ao ceo e choromicando.

—Eu, que fun o unicornio máis guapo do mundo. Que teño dous premios «Corno de Ouro» e agora... dinme que estou «pasado de moda». Eu, pasado de moda! Buahhhh!

—Creo que ten unha depresión de cabalo —díxolle o tío Serafín a Lúa. O mago e a súa sobriña fixeron todo o que puideron. Cancións, fogos artificiais, apócemas antidepresivas, cóxegas, focas bailarinas, chistes

de burros... nada. Donovan seguía moi triste. Ninguén podía axudar a Donovan salvo el mesmo.

—Xa o teño! —dixo Serafín rebuscando no seu maletín—. O espello máxico.

Cando o unicornio viu aquel espello non puido resistir a tentación de mirarse para comprobar se lle quedaban ben as bágoas.

—Espelliño, espelliño... A que son terriblemente feo?

—O que es —respondeu a súa propia imaxe—, é moi gracioso. Es o unicornio máis gracioso deste bosque.

Donovan quedou un pouco estrañado ao principio, pero logo comezou a poñer caras diante do espello.

—Hihihi! —ría o espello.

—Huohuhuo! —ría Donovan da súa cara.

Desde aquela, Donovan deixou de ser un actor presumido e empezou a cantar, a bailar, a saltar no trapecio, a facer malabares... e a ser coñecido como o pallaso Donovan, o unicornio máis gracioso do bosque.

MARTES 2 DE XUÑO

- “Coñecemos a lingua”, actividades das páxinas 210 e 211 do teu libro sobre profesións

MÉRCORES 3 DE XUÑO

- Realiza as actividades das páxinas 212 e 213 sobre o verbo en futuro.

Igual que o verbo podía indicar accións que ocorreran pasado (comín unha mazá, xoguei no parque ...) tamén pode indicar accións que aínda non ocorreron, senón que pasarán no futuro: comerei unha mazá, xogarei no parque...

Podemos acompañalas de mañá, despois, logo, a semana que vén, dentro dun rato...

XOVES 4 DE XUÑO

- Realiza as actividades das páxinas 214 e 215 sobre b e v

VENRES 5 DE XUÑO

- Realiza os seguintes exercicios no teu caderno ou nun folio.

1. DITADO

Mañá pola mañá collerei o autobús para ir á excursión. Esta tarde prepararei a mochila para a viaxe. Cando volva duchareime, cearei e lavarei os dentes, porei o pixama e a durmir!

2. PON OS SEGUINTE VERBOS EN PASADO E ESCRIBE UNHA ORACIÓN CON CADA UN

	Varrer	Soñar	Durmir
Futuro			

3. COMPLETA AS ORACIÓNS COAS PALABRAS DO RECADRO

mercou	andel	cambio	tendeiro
--------	-------	--------	----------

María _____ unhas flores para plantar no xardín.

O _____ deulle un euro de _____.

No _____ do medio está o chocolate.

**4. COPIA AS SEGUINTE PALABRAS NO TEU CADERNO/FOLIO E
COMPLÉTAAS CON B/V**

lo__o

a__e

ca__ra

o__o

**5. POR ÚLTIMO CORRIXE OS ERROS DE B/V QUE EXISTEN NO
SEGUINTE TEXTO**

Isavel estibo na casa barrendo mentres Vrais votaba auga nun baso para regar as prantas.

2º EDUCACIÓN PRIMARIA

(solucións)

LUNS 1 DE XUÑO

- Despois realiza as actividades relacionadas coa historia das páxinas 206 e 207.

Solucións páxina 206

1 Quen é Donovan? Marca e escribe debaixo que ser é.



Unicornio

2 Responde estas preguntas.

- Por que estaba revolucionada a charca? Porque Donovan, o unicornio máis famoso do cinema volvera á Charca.
- Como era Donovan? Guapísimo.
- Onde traballaba Donovan? No cinema.
- Que lle pasaba a Donovan? Deixara todo e estaba profundamente triste porque dician que estaba pasado de moda.

3 Escribe o nome dos premios que tiña Donovan. Inventa ti o nome doutros dous.

Corno de Ouro.

Resposta libre.

Solucións páxina 207

5 Escribe no caderno os remedios que lle recetaron a Donovan.

Canciós, fogos artificiais, apócemas antidepressivas, cóxegas, focas bailarinas, chistes de burros.

6 Que empregaron para axudar a Donovan? Debúxao.

Un espello máxico



7 Completa segundo o que acontece no texto.

Ao ver o espello, Donovan non puido resistir a tentación de mirarse para ver se lle quedaban ben as mágoas. Preguntoulle ao espello se era terriblemente feo. O espello díxolle que era o unicornio máis gracioso dese bosque. Donovan quedou un pouco estrañado ao principio pero logo comezou a poñer caras diante do espello.

8 Como comezou a ser coñecido Donovan? Por que? O pallaso Donovan porque deixou de ser presumido e empezou a facer rir a todos.

MARTES 2 DE XUÑO

- “Coñecemos a lingua”, actividades das páxinas 210 e 211 do teu libro sobre profesións

Solucións páxina 210

1 Fíxate na ilustración e completa o texto.



Beatriz foi á tenda coa lista da compra. Entrou e foi dereita ao andel onde estaban a pasta, o arroz, a faríña... e colleu macarróns e arroz. Revisou a lista e foi á froitería buscar un quilo de mazás. O tendeiro púxoas na balanza para saber o peso.

Cando xa tiña todo, foi ao mostrador para pagar, o cartos meteu os cartos na caixa rexistradora e devolveulle o cambio.

2 Clasifica as palabras e pon un nome para cada conxunto.

tendeiro cliente vendedor comprador

<p>tendeiro</p> <p>vendedor</p>	<p>cliente</p> <p>comprador</p>
---------------------------------	---------------------------------

Solucións páxina 211

3 Completa segundo o exemplo.

froita → froitería pan → panadería
 carne → carnicería zapato → zapatería
 flor → florería peixe → peixaría

4 Busca no barullo de letras produtos que mercamos nestas tendas. Escríbeos.

queixería pastelería farmacia moblería ferretería librería

P	Q	U	U	P	H	B	V	M	O
M	U	Q	V	I	Q	M	F	D	Ñ
F	E	R	R	A	M	E	N	T	A
A	I	Ñ	L	A	P	D	L	X	O
B	X	B	I	H	A	I	Q	Ñ	C
M	O	B	L	E	S	C	O	H	V
H	G	B	I	D	T	I	V	M	B
Z	C	N	B	A	E	N	Z	V	H
M	O	X	R	R	L	A	I	O	P
U	H	Ñ	O	H	G	L	Z	X	Ñ

- MOBLE
- LIBRO
- PASTEL
- MEDICINA
- QUEIXO
- FERRAMENTA

MÉRCORES 3 DE XUÑO

- Realiza as actividades das páxinas 212 e 213 sobre o verbo en futuro.

Solucións páxina 212

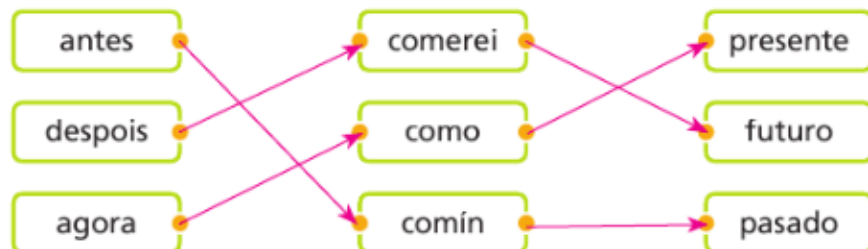
1 Escribe o que farán despois.

O neno vestirá a roupa. A nena abrirá o regalo.

2 Le as oracións, rodea os verbos e copia unha que teña o verbo en futuro.

- Mañá visitaremos a avoa Carme.
- Hoxe non durmimos a sesta.
- As casas caeron de vellas.
- Subirán a compra dentro dun pouco.

4 Relaciona.



Solucións páxina 213

5 Fíxate no exemplo e completa o cadro.

	Pasado	Presente	Futuro
abrir	abrín	abro	abrirei
falar	<u>falei</u>	<u>falo</u>	<u>falarei</u>
soñar	<u>soñei</u>	<u>soño</u>	<u>soñarei</u>
facer	<u>fixen</u>	<u>fago</u>	<u>farei</u>
vivir	<u>vivin</u>	<u>vivo</u>	<u>vivirei</u>

6 Rodea os verbos en futuro e fai unha oración con cada un.

xogou escribirei corres limpamos
viaxaremos facedes chegarán

XOVES 4 DE XUÑO

- Realiza as actividades das páxinas 214 e 215 sobre b e v

Solucións páxina 214

1 Le con atención e rodea as palabras con **b** e **v**.

Nunha **bonita** aldea moi pequena cunha soa fonte e unha soa praza **vivía** Otilia. Otilia tiña un **vestido** **violeta** de flores e **bolboretas** para o domingo e outro **branco** sen flores para o resto da semana. Tiña uns enormes ollos **verdes** e os pés moi pequenos. Cando se poñía **nerviosa** **suaba** e **entráballe** o impo.

Antonio VICENTE



2 Completar palabras con **b** e **v**.

nu b e v aso v aca tá b oa v erán
cu b alo ne v e b ico b urro qu v o

3 Completa as oracións con palabras da actividade anterior.

- O cabalo e o burro pastan no prado ao lado da vaca.
- Serro a táboa para amañar a porta.
- Deulle un bico na meixela.
- Colleu un vaso para tomar auga.

Solucións páxina 215

bruxa

vaca

barco

televisión

6 Rodea os erros e escribe a oración corrixida no caderno.

A vruxa vai de viaxe todos os beráns en varco de bela.

VENRES 5 DE XUÑO

- Realiza os seguintes exercicios no teu caderno ou nun folio.

Solución dos exercicios

3. PON OS SEGUINTE VERBOS EN PASADO E ESCRIBE UNHA ORACIÓN CON CADA UN

	Varrer	Soñar	Dormir
Futuro	varrerei	soñarei	durmirei

3. COMPLETA AS ORACIÓNS COAS PALABRAS DO RECADRO

María mercou unhas flores para plantar no xardín.

O tendeiro deulle un euro de cambio.

No andel do medio está o chocolate.

4. COPIA AS SEGUINTE PALABRAS NO TEU CADERNO/FOLIO E COMPLÉTAAS CON B/V

lobo ave cabra ovo

5. POR ÚLTIMO CORRIXE OS ERROS DE B/V QUE EXISTEN NO SEGUINTE TEXTO

Isabel estivo na casa varrendo mentres Brais botaba auga nun vaso para regar as prantas.

SEMANA DEL 1 al 5 de junio

Podéis distribuir el trabajo por día según vuestra disponibilidad

Rutinas que podemos realizar todos los días

Recordar que lo primero que hacíamos al comenzar la clase era irnos a nuestra recta numérica y contar los números del 1 al 20.

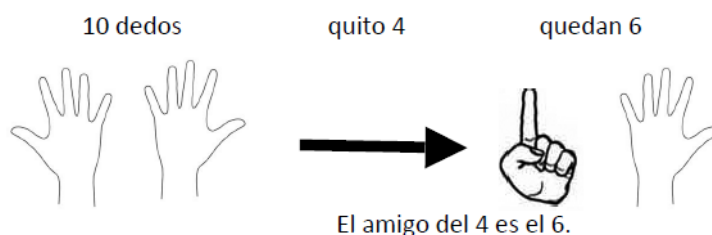


- Intentar hacer lo mismo en casa, aunque no tengais los numeros en el suelo. (y si teneis la posibilidad de dibujarlos en el suelo sería mucho mejor)
- Contar de dos en dos, de tres en tres, etc.
- Contar en sentido ascendente (1-20).
- Contar en sentido descendente (20- 1).
- Nos situamos en un número y contamos cuánto falta para el 10 (amigos del 10).



<https://www.youtube.com/watch?v=BOXHXK-MITU>

Amigo del cuatro:



- Contar de 10 en 10 hasta 100
- Contar de 100 en 100 hasta 900

TODO EL CONTENIDO MULTIMEDIA (AUDIOS E VÍDEOS) PUEDEN SER VISTOS EN CUALQUIER TELÉFONO, TABLET OU ORDENADOR

Lunes 1

Esta semana vamos a realizar el repaso de toda la unidad, empezaremos con

¡Sin problemas!

En tu libro de matemáticas las páginas 192 y 193

CARTELES PARA PASOS EN LA RESOLUCIÓN DE PROBLEMAS:



Seguimos con el repaso de la unidad, nos toca repasar en las páginas 194 y 195 de tu libro de matemáticas:

Triple

TRIPLE DE UN NÚMERO

Para calcular el **triple** de una cantidad, **multiplicamos por 3**.



Hay 7 flores

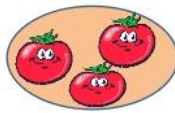


$$7 \times 3 = 21$$

Ahora hay 21 flores



Hay 3 tomates



$$3 \times 3 = 9$$

Ahora hay 9 tomates

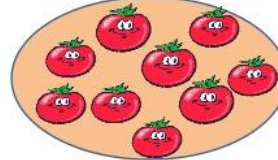


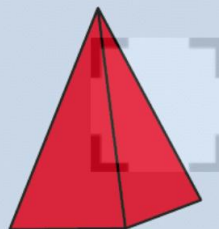
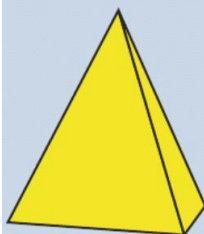
Tabla de multiplicar del 8

TABLA DEL 8

$8 \times 1 = 8$
$8 \times 2 = 16$
$8 \times 3 = 24$
$8 \times 4 = 32$
$8 \times 5 = 40$
$8 \times 6 = 48$
$8 \times 7 = 56$
$8 \times 8 = 64$
$8 \times 9 = 72$
$8 \times 10 = 80$

Pirámides

Estos cuerpos son **pirámides**.



Miércoles 3

Seguimos con el repaso en tu libro de matemáticas en las páginas 196 y 197, lo que tengas dudas de hacerlo no te preocupes, no lo hagas, a la vuelta al cole te lo explicare!!!

- Nombre y grafía de los números del 0 al 999.
- Descomposición de forma aditiva.
- Comparación de números de tres cifras.
- Construcción de series ascendentes y descendentes.
- Cálculo mental: suma y resta de decenas enteras a números de tres cifras acabados en cero.
- Lecturas en relojes analógicos.
- Monedas y billetes de euro.
- Prismas, cubo y esfera.
- Posiciones y movimientos en el espacio.

Jueves 4

Hoy será tu último día de trabajo, ya que mañana lo dejaremos para que te repongas de esta dura semana de matemáticas, vamos allá, en tu libro de matemáticas haremos nuestro último repaso de las páginas 198 y 199. Animo que lo has hecho muy bien

RECORDAR SI TENEIS ALGUNA DUDA O PROBLEMA AQUÍ ESTARÉ PARA AYUDAROS, y **debéis enviar vuestro trabajo al:**

ceipcarmengarciacarrasco@gmail.com

- 1 El abuelo Lin está leyendo un libro que le han regalado sus nietas. Si ya ha leído 380 páginas y le quedan 270 páginas por leer, ¿cuántas páginas tiene el libro?

Marca la solución aproximada del problema.

El libro tiene más de 700 páginas.

El libro tiene menos de 700 páginas.

Comprueba que la opción marcada es correcta.

Solución: El libro tiene 650 páginas.

- 2 El abuelo Lin tiene en su salón una librería con 6 estantes para guardar todos sus libros. Si en cada estante hay 11 libros, ¿cuántos libros tiene el señor Lin?

Marca la solución aproximada del problema.

El señor Lin tiene más de 60 libros.

El señor Lin tiene menos de 60 libros.

Comprueba que la opción marcada es correcta.

Solución: El señor Lin tiene 66 libros.

- 3 El abuelo Lin lleva 45 minutos leyendo su libro. ¿A qué hora empezó a leer?

Marca la solución aproximada del problema.

Empezó a leer antes de las 12 en punto.

Empezó a leer después de las 12 en punto.

Comprueba que la opción marcada es correcta.



Solución: Empezó a leer a las 11:45.

- 1 Si Daniel ha elaborado el triple de galletas que María, ¿cuántas galletas ha elaborado Daniel? Subraya la respuesta correcta.



- 26 galletas
- 24 galletas
- 36 galletas

- 2 ¿Cuántas uvas habrá en cuatro cestas iguales a la del dibujo? Rodea la respuesta correcta.




- 24 uvas
- 32 uvas
- 40 uvas

- 3 Víctor quiere saber el resultado de esta operación. Rodea la opción correcta.



- 852
- 842
- 862

- 4 Alicia ha comprado el objeto con forma de pirámide. ¿Qué objeto ha comprado? Subraya la respuesta correcta.



- el gorro de fiesta
- la lámpara
- el estuche

1 Calcula las operaciones y colorea los recuadros según el código. Ten en cuenta que todos los recuadros tienen distinto color.

● $346 + 127 = 473$

● $328 + 393 = 721$

● $257 + 73 = 330$

● $109 + 116 = 225$

● $421 + 283 = 704$

● $347 + 98 = 445$



color

- La cifra de las decenas de este resultado coincide con la cifra de las centenas.



rojo

- La cifra de las centenas de este resultado es igual a 7.



marrón

- El resultado no acaba en 5.



naranja

- La cifra de las decenas de este resultado es igual a 7.



verde

- El resultado es mayor que 400.



rosa

- El resultado se lee *setecientos cuatro*.



azul

1 Observa estos ábacos y completa.



$$\boxed{9} \text{ C} + \boxed{3} \text{ D} + \boxed{7} \text{ U}$$

novecientos treinta y siete




$$\boxed{9} \text{ C} + \boxed{5} \text{ D} + \boxed{2} \text{ U}$$

novecientos cincuenta y dos

- Compara los números anteriores utilizando el signo $>$.

$$\boxed{952} > \boxed{937}$$

2 Realiza los saltos y continúa la serie.



3 Dictado.

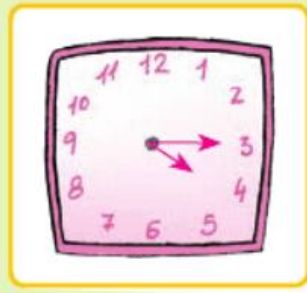
- 908
281
899
51
900
745
872

4 Dibuja las agujas de cada reloj.

Son las 2 y media.



Son las 4 y cuarto.



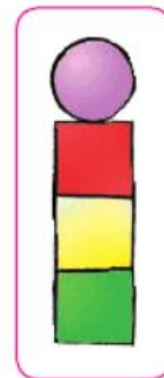
Son las 7 menos cuarto.



5 Teresa ha pagado sus zapatos con un billete de 50 €. Observa el precio y rodea el cambio.



6 ¿Cómo está viendo la figura Mariano? Rodea la opción correcta.



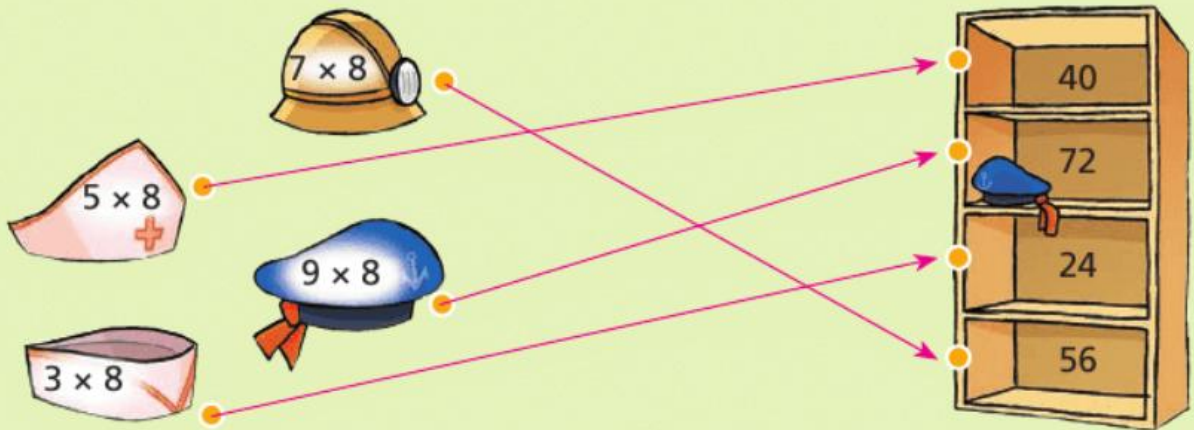
1 Calcula el doble y el triple y completa.

	5	9	4	7
El doble	10	18	8	14
El triple	15	27	12	21



Para calcular el doble de un número, multiplico por dos, y para calcular el triple, multiplico por tres .

2 Une con flechas.



3 Escribe el resultado de estas multiplicaciones.

$$\begin{array}{r} 13 \\ \times 3 \\ \hline \end{array}$$

39

$$\begin{array}{r} 22 \\ \times 4 \\ \hline \end{array}$$

88

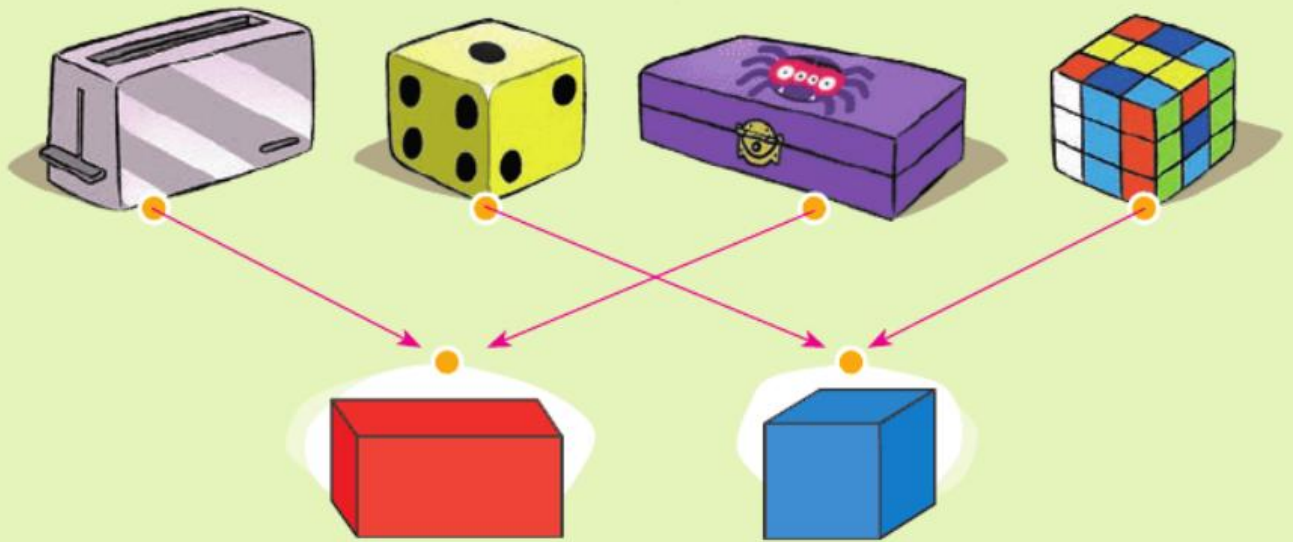
$$\begin{array}{r} 124 \\ \times 2 \\ \hline \end{array}$$

248


$$\begin{array}{r} 72 \\ \times 4 \\ \hline \end{array}$$

288

4 Une cada objeto con su forma.



5 Rodea las pirámides que hay en este juego.



RECORDAR SI TENEIS ALGUNA DUDA O PROBLEMA AQUÍ ESTARÉ PARA AYUDAROS, y enviar vuestro trabajo al:

ceipcarmengarciacarrasco@gmail.com

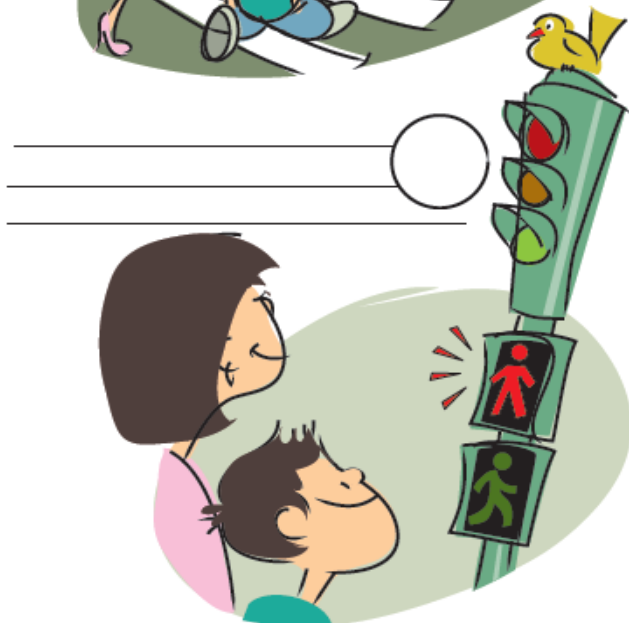



TRABALLO DA SEMANA do 1 ao 5 de xuño

Este curso a través do Plan Proxecta estamos traballando o programa MOBILIDADE SOSTIBLE E SEGURA. Dentro deste programa queremos por en funcionamento a actividade " Traballando coa seguridade ", dende a páxina da DGT nos ofrecen fichas para colorear na que os nenos e nenas practiquen os números, as vogais, os términos grande -pequeno, fóra-dentro, lonxe-preto, etc


RECORDAR SI TENEIS ALGUNA DUDA O PROBLEMA AQUÍ ESTARÉ PARA AYUDAROS, y **debéis enviar vuestro trabajo al:**

ceipcarmengarciacarrasco@gmail.com

Ordena estas viñetas de manera correcta poniendo el número en el círculo y escribe lo que pasa.




- Salgo de casa de la mano de mama caminando por la acera
- Encontramos un semáforo con muñeco en rojo
- Pulsamos el botón
- Miramos
- El muñeco está en verde y el coche parado
- Cruzamos



Ordena estas viñetas de manera correcta poniendo el número en el círculo y escribe lo que pasa



_____ ○



_____ ○



_____ ○



_____ ○

- Espera en la parada en orden
- Subimos en fila
- Nos sentamos correctamente
- Bajamos despacio sin molestar