

Semana do 27 de abril ao 30 de abril

Esta semana imos facer exercicios dos libros ademáis de algunha ficha que vos deixamos aquí:

Matemáticas: Páxinas 116, 117, 118 e 119, para reforzar as restas e maior e menor.

Estrelamar (segundo trimestre): Páxinas 82,83,84 e 85.

Lecturas Comprensivas 2: Imos continuar repasando as sílabas facendo unha ou dúas páxinas cada día ao voso ritmo ata rematar o libro, que xa pouco queda.

Non vos olvidedes de ler un anaquiño cada día e tamén podedes ir copiando na libreta pequenos textos ou oracións.

Esperamos que todas e todos esteades ben. Para calquer dúbida, comentario ou suxerencia que teñades, xa sabedes que podedes poñervos en contacto con nós por abalar.

Unha aperta das vósas profes María e Isabel



1. Completa las decenas:

10 diez



1 decena

20 veinte



..... decenas

30 treinta




..... decenas

40 cuarenta



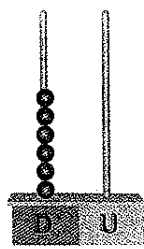
..... decenas

50 cincuenta



..... decenas

60 sesenta




..... decenas

70 setenta



..... decenas

80 ochenta



..... decenas

90 noventa



..... decenas


2. Cuenta de 10 en 10:





9. Suma las decenas:

	3 decenas	→	30	→	30 unidades
	+ 2 decenas	→	+ 20	→	+ 20 unidades
<hr style="width: 50%; margin: 0 auto;"/>			5	→	50 unidades



$$\begin{array}{r} 20 \\ + 20 \\ \hline \end{array}$$

.....

$$\begin{array}{r} 40 \\ + 50 \\ \hline \end{array}$$

.....

$$\begin{array}{r} 80 \\ + 10 \\ \hline \end{array}$$

.....

$$\begin{array}{r} 50 \\ + 30 \\ \hline \end{array}$$

.....

$$\begin{array}{r} 60 \\ + 10 \\ \hline \end{array}$$

.....

10. Rodea los que suman el número indicado:

80 → 60 40 20

90 → 20 70 10

30 → 10 20 40

50 → 30 40 10

60 → 30 40 20

40 → 20 30 20

11. Escribe la decena anterior y la posterior:

	60	
--	----	--

	30	
--	----	--


	80	
--	----	--

	50	
--	----	--



El calendario

Escribe los números que faltan en el calendario:



LUNES	MARTES	MIÉRCOLES	JUEVES	VIERNES	SÁBADO	DOMINGO
			1	2	3	4
.....	6	8	9	10	11
12	13	14	15	17
19	21	22	23	24	25
26	27	28	30		

Ana cumple años el día 19 y Juan, dos días antes. ¿Qué días de la semana cumplen años?

Ana _____

Juan _____


Los días que cumplen años Teo y Eva suman 10. Si el cumpleaños de Teo es domingo, completa:

Teo, el domingo,
día

Eva, el _____
día

18. Elige la operación y resuelve:

Hay 26 manzanos y 32 limoneros.
¿Cuántos árboles hay en total?



En total hay árboles.

	D	U
<input type="checkbox"/>		
<input type="checkbox"/>		
<input type="checkbox"/>		


Había 41 mariposas y se van 21.
¿Cuántas mariposas quedan?



Quedan mariposas.

	D	U
<input type="checkbox"/>		
<input type="checkbox"/>		
<input type="checkbox"/>		

Había 12 macetas de flores y traen otras 6.
¿Cuántas hay ahora?



Ahora hay macetas.

	D	U
<input type="checkbox"/>		
<input type="checkbox"/>		
<input type="checkbox"/>		