
13 - Un camionero recorre un día 79 km. Y al día siguiente 17 km. más que el primer día. ¿Cuántos km. hace entre los dos días?



14 - El padre de Rosa tiene ahora 43 años. ¿Qué edad tenía hace 15 años?

15 - La madre de Nieves tiene ahora 37 años. ¿Cuántos tendrá dentro de 13 años?

16 - Un libro tiene 98 páginas y yo me he leído ya 26 páginas. ¿Cuántas me quedan por leer?




17 - Después de una fuerte tormenta de granizo han quedado en un tejado 98 tejas de las 235 que había . ¿Cuántas se han roto?



18 - A Pachi, después de gastarse 37 euros le quedan todavía 25 euros. ¿Cuántos euros tenía?

19 - Pablo tiene 25 años más que su hijo Antonio. Si Pablo tiene 37 años, ¿cuál es la edad de Antonio?

20 - Estoy en el piso 17 de una casa de 31 pisos. ¿Cuántos pisos me faltan para llegar al último?



UNIDAD 2 : LOS NÚMEROS DE CUATRO Y CINCO CIFRAS

1 – En un edificio hay 70 ventanas que dan a la calle y 35 al patio interior. ¿Cuántas ventanas hay en total? ¿Cuántas ventanas dan más a la calle que al interior?

2 – En una tienda había 47 kg. de naranjas y han vendido 33 kg. ¿Cuántos kilos de naranjas quedan por vender?



3 – Durante un mes en una tienda se han vendido 47 pantalones y 72 chaquetas. ¿Cuántas chaquetas más que pantalones se vendieron durante dicho mes?

4 – Una corredora ha hecho 33 de los 76 kilómetros que quería recorrer. ¿Cuántos km. le faltan aún?



5 – María tiene 25 años y su madre tiene 63 años. ¿Cuántos años tenía su madre cuando nació María?

6 – Un rosal ha dado en el mes de mayo 53 rosas. Si se han vendido 48 de esas rosas, ¿cuántas han quedado sin vender?



7 – De las 89 páginas de un libro me quedan por leer 37. ¿Cuántas páginas he leído?

8 - En una clase formada por 36 alumnos, hay 15 niños y el resto son niñas. ¿Cuántas niñas hay en dicha clase?



9 - Juan tiene en su colección 81 sellos y Ángel tiene en la suya 27 sellos menos. ¿Cuántos sellos tiene Ángel?



10 – El billete de autobús cuesta 75 céntimos. Si me sobran 25 céntimos, ¿cuánto dinero tenía?



11 – Ramón tiene 47 años y Rafael nació cuando Ramón tenía 25 años. ¿Cuál es la edad actual de Rafael?

12 – Un camión lleva una carga de 39 toneladas de hierro; otro transporta 27 toneladas y un tercer camión lleva 14 toneladas. ¿Cuántas toneladas llevan en total?



13 – A una planta, en primavera le nacen en la primera semana 33 hojas, en la segunda 36 hojas y en la tercera semana 95. ¿Cuántas hojas le han nacido en total?



14 - Un coche pasa por cuatro ciudades. Entre las dos primeras recorre 57 km. Entre la segunda y la tercera 84 km. y entre la tercera y la cuarta recorre 101 km. ¿Cuántos km. hay entre la primera y la cuarta ciudad?

15 – Una caja con 13 kilos de limones pesa 17 kilos. ¿Cuánto pesa el envase vacío?

16 – Un molinero trituró 60 sacos de maíz, 244 de trigo y 160 de avena. ¿Cuántos sacos molió en total?



17 - Dos astronautas han realizado 560 órbitas alrededor de la Tierra. ¿Cuántas les faltan para regresar si en total han de efectuar 746?



18 - Se ha calculado en 28.650 los árboles de un bosque y en 24.215 los de otro cercano. Si es exacto el cálculo, ¿cuántos árboles hay más en el primer bosque que en el segundo?



19 – Para la repoblación forestal se disponía de 635 pinos. En la primera jornada se plantaron 231 y en la segunda 352. ¿Cuántos pinos quedaron por plantar?

20 - La mesa de Carmen mide 103 cm. de altura y la silla mide 58 cm. de altura. ¿Cuántos cm. más mide la mesa que la silla?



5 - Una máquina ha excavado en un día 81 metros de una zanja; al día siguiente 67 metros menos que el anterior y al tercer día 73 metros más que el segundo día. ¿Cuántos metros de zanja ha excavado en total?



6 - En una caja hay 27 pollitos, en otra hay 45 pollitos más que en la primera y en una tercera hay 57 pollitos. ¿Cuántos animales hay en total?



7 - En el primer piso de una casa hay 25 cristales más que en la planta baja y en el segundo 17 cristales más que en el primer piso. Si en la planta baja hay 48 cristales , ¿cuántos cristales hay en total entre los pisos y la planta baja?

8 - Un montañero está subiendo el Aconcagua. Durante el primer día sube 320 metros, el segundo día sube otros 147 metros y el tercer 97 metros . ¿A qué altura ha llegado al final del tercer día?



9 – Un cohete de feria tiene tres fases; en la primera recorre 47 metros, en la segunda 8 metros más que en la primera y en la tercera 1 metro más que en la segunda. ¿Cuántos metros sube en la segunda? ¿Cuántos metros sube en total?



10 - En el jardín de Andrés hay 45 rosales, pero tiene 18 rosales más que en el jardín de Maite. ¿Cuántos rosales tiene el jardín de Maite?

11 - Estoy leyendo un libro que tiene 97 páginas y he leído 23 páginas menos de las que tiene. ¿Cuántas páginas he leído?




12 - En un jardín se plantan 78 geranios, pero se marchitan 35. ¿Cuántos quedan?

13 - Desde mi casa al colegio hay 103 pasos y he dado 27 pasos menos de los necesarios para llegar al colegio. ¿Cuántos pasos he andado?



14 - Entre dos garrafones hay 58 litros de vino . ¿Cuántos litros hay en el garrafón grande si en el pequeño hay 22 litros?

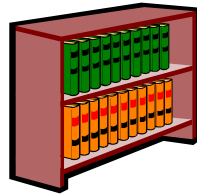


15 - De los 5.284 huevos incubados salieron 4.615 polluelos.
¿Cuántos huevos se estropearon?

16 - Un proyecto se ha hecho en tres etapas de 140, 120 y 145 días respectivamente. Si estaba calculado para hacerlo en 500 días, ¿cuántos días nos hemos ahorrado?

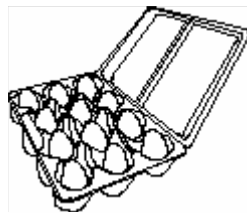


9 - En una estantería hay 18 libros de animales y 24 de cuentos.
¿Cuántos libros habrá en 6 estanterías iguales?



10 – En un libro hay 7 páginas con 73 palabras cada una y 4 páginas con 85 palabras cada una. ¿Cuántas palabras suman todas las páginas de dicho libro?

11 - En una cesta había 258 huevos. Se rompieron 49 y el resto los vendo a 10 céntimos cada uno. ¿Cuánto dinero saco?



12 - Perdí 125 cromos de los 265 que tenía. Cada cromo vale 15 céntimos. ¿Cuánto dinero valen los que me quedan?

13 – Durante un mes cada uno de los niños de mi grupo de trabajo ha usado 17 hojas grandes y 23 pequeñas. ¿Cuántas hojas hemos gastado en total los 8 niños del grupo durante dicho mes?



14 - En un camión había 128 cajas. Hemos descargado 36 . Las que quedan en el camión pesan 8 kg. cada una. ¿Cuántos kg. lleva ahora el camión?




15 - Un ganadero tiene un rebaño de 628 ovejas. Vende 63 ovejas en cada pueblo por el que pasa. Si recorre 4 pueblos, ¿cuántas le quedan por vender?



16 - Mi hermano gana 12 cromos por la mañana y 18 por la tarde. Al cabo de 5 días, ¿cuántos cromos habrá ganado?

5 – En una canoa caben 6 remeros. ¿Cuántas canoas harán falta para llevar 72 remeros?



6 - Un ventanal tiene 34 cristales entre sus dos hojas. ¿Cuántos cristales hay en cada hoja?

7 - En una pajarería hay 252 canarios. Los colocamos en jaulas de 6 en 6. ¿Cuántas jaulas serán necesarias?

8 - Entre 7 agricultores han recogido 784 kg. de tomates en una mañana. ¿Cuántos kilos de tomates habrá recolectado cada uno?



13 - Tengo 126 avellanas y quiero ponerlas en bolsitas. ¿Cuántas bolsitas necesitare, si en cada una pongo 6 avellanas?



14 - Si se reparte un centenar de caramelos entre 5 niños, ¿cuántos caramelos recibirá cada uno?

15 - Para distribuir 684 manzanas en 4 cajas, ¿cuántas manzanas hay que poner en cada caja?



16 - Cada día hago 4 problemas. Cuando termino la libreta cuento un centenar de problemas. ¿En cuántos días he hecho estos deberes?