




1 ¿Cuántos metros miden las dos piezas de tela?



Respuesta:

Las dos piezas miden _____ metros.


2 En una granja hay 38 conejos,
15 pavos y 24 gallinas.
¿Cuántos animales hay en la granja?



Respuesta:

En la granja hay _____ animales.

3 Fernando tiene que recorrer 67 kilómetros
desde su casa hasta su trabajo.
Ya ha recorrido 34 kilómetros.
¿Cuántos kilómetros le faltan por recorrer?




Respuesta:


Le faltan por recorrer _____ kilómetros.

En una caja había 23 cartones de leche. Se han llevado 7 cartones. ¿Cuántos cartones quedan?

1. ¿Qué sabes?



2. ¿Qué te preguntan?




3. ¿Qué debes hacer para responder? sumar restar

cartones que había	→	23
cartones que se han llevado	→	- 7
cartones que quedan	→	16


Respuesta: Quedan 16 cartones.

En una bolsa había 24 canicas. Sacamos 16 canicas.
 ¿Cuántas canicas quedan?

1. ¿Qué sabes?




2. ¿Qué te preguntan?



3. ¿Qué debes hacer para responder?


sumar restar




Respuesta: Quedan _____ canicas.

Arturo debe meter 23 botellas en una caja. Si ya ha metido 15 botellas, ¿cuántas le faltan por meter?

1. ¿Qué sabes?




2. ¿Qué te preguntan?



3. ¿Qué debes hacer para responder?


sumar restar



Respuesta: Le faltan por meter _____ botellas.


P RÁCTICA

- 8 Un frutero compró 42 kilos de manzanas. Vendió 28 kilos. ¿Cuántos kilos le faltan por vender?




Respuesta: Le faltan por vender

- 10 En un huerto hay 52 árboles entre naranjos y limoneros. Si 35 son naranjos, ¿cuántos limoneros hay?




Respuesta: Hay

- 9 Alejandro tiene 52 cromos y Alicia tiene 26 cromos. ¿Cuántos cromos más tiene Alejandro que Alicia?




Respuesta: Alejandro tiene

- 11 Mi abuelo tiene en su granja 71 cerdos y 28 patos. ¿Cuántos cerdos más que patos tiene mi abuelo?



Respuesta: Mi abuelo tiene


- 15 En una estantería hay 36 novelas, 25 cuentos y 14 libros de poesía. ¿Cuántos libros hay en total?



Respuesta:

En total hay _____


- 16 Una garrafa tiene 50 litros de agua y otra tiene 25 litros. ¿Cuántos litros tienen entre las dos?



Respuesta: Entre las dos

tienen _____


- 17 En una fiesta había 47 personas. Se han marchado 28. ¿Cuántas personas quedan?



Respuesta:


Quedan _____

- 18 Una carretera entre dos pueblos tenía 42 kilómetros. Han hecho obras y la han acortado en 5 kilómetros. ¿Cuántos kilómetros mide ahora?




Respuesta: Ahora mide _____

- 19** Un álbum tiene 43 fotos y otro tiene 39 fotos.
¿Cuántas fotos tienen entre los dos?




Respuesta: Entre los dos
tienen _____

- 20** En un recipiente había 87 litros de aceite y se sacaron 38.
¿Cuántos litros de aceite quedan?




Respuesta:
Quedan _____

- 21** En el patio del colegio había 76 niños. Se han marchado 48.
¿Cuántos niños quedan?





Respuesta:
Quedan _____

- 22** En el teatro Avenida hay 82 butacas. Para la función de la tarde se han vendido 45.
¿Cuántas butacas han quedado libres?



Respuesta: Han quedado
libres _____

Observa los árboles que han plantado en la finca de Juan Manuel.

	 Manzanos	 Cerezos
Lunes	31	16
Martes	17	34

23 ¿Cuántos árboles han plantado cada día?

Respuesta: Han plantado _____ árboles el lunes y _____ árboles el martes.

24 ¿Qué día han plantado más árboles?

Respuesta: Han plantado más árboles el _____

25 ¿Cuántos manzanos han plantado en total?

Respuesta: _____

26 ¿Cuántos cerezos han plantado en total?


Respuesta: _____

27 ¿Cuántos cerezos más que manzanos han plantado?


Respuesta: _____

28 ¿Cuántos manzanos faltan por plantar si en total deben quedar 61 manzanos?

Respuesta: _____




- 29** Andrea quiere comprar una muñeca que vale 19 euros, un rompecabezas que vale 15 euros y un cuento que vale 4 euros. ¿Cuántos euros necesita para pagar todo?




Respuesta:

- 30** Domingo tiene 31 gallinas en un corral, 27 en otro y 34 en otro. ¿Cuántas gallinas tiene en total?




Respuesta:

- 31** Una caja de queso manchego cuesta 76 euros y una caja de queso gallego 84 euros. ¿Cuántos euros más cuesta la caja de queso gallego que la de queso manchego?



Respuesta:

- 32** María está asistiendo a un curso de inglés que dura 41 semanas. Ya ha asistido durante 29 semanas. ¿Cuántas semanas le faltan para terminar?



Respuesta:
