

Semana do 30 de marzo ao 3 de abril

Seguiremos lendo cada día e practicando a caligrafía. Esta semana propoñévosvos estas actividades:

Cada día da semana escribiremos unha oración coas palabras que vos damos e despois faremos un debuxo que represente a oración que inventamos. As palabras son as seguintes:

Luns: prado e flores.

Martes: espantallo e granxeiro.

Mércores: mangueira e bombeiro.

Xoves: cantimplora e palmeira.

Venres: ambulancia e xoguete.

Continuaremos repasando os números que xa coñecemos.

Luns: Contar de 2 en 2 dende 0 ata 50.

Martes: Contar de 2 en 2 para atrás, dende 70 ata 48.

Mércores: Escribir en letra os números dende 59 ata 70.

Xoves: Inventar un problema que se resolva cunha suma.

Venres: Inventar un problema que se resolva cunha resta.

Deixámosvos tamén unhas fichas para reforzar o aprendido e por último recomendarvos a canle [Pandemia de contos](#) na que poderedes disfrutar duns contos galegos.


Esperamos e desexamos que todos e todas esteades ben e que esta situación pase o antes posible para poder volver a vernos.

Un saúdo.

As mestras de 1º

Nome _____

1 Une.



ovíparos

vivíparos

2 Como se desprazan os animais da actividade anterior?
Escribe onde corresponda.

voa

nada

anda

▼

▼

▼

3 Risca o animal que sobra en cada caso.

herbívoros



carnívoros



Nome _____

- 1** Que animal é? Une os puntos e colorea.
Despois, completa a ficha.



É un

Ten o corpo cuberto de...

- plumas. pelo. escamas.

Ten...

- aletas. ás. patas.

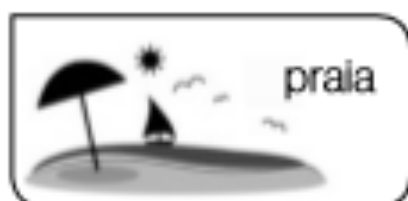
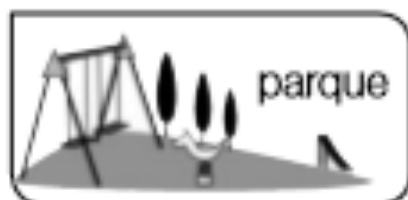
Nace do ventre da nai:

- é ovíparo. é vivíparo.

Come plantas:

- é carnívoro. é herbívoro.

Nome _____

1 Escribe no seu lugar.

Vas xogar alí e divertirte.

▶ _____

Ten un olor moi bo.

▶ _____

No verán pódeste bañar aí.

▶ _____

Darllo ao gañador.

▶ _____

Vai despois do inverno.

▶ _____

2 Quen é? Marca e copia.

É o príncipe Sempronio.

É a princesa Priscila.



Nome _____

1 Marca cada camiño cunha cor diferente.



2 Que é? Observa e escribe.

pol ou plo?		▶	un di ma
pla ou pal?		▶	unha ca

3 Copia a oración. Despois díla varias veces seguidas e moi rápido.

Unha rampla repleta de plantas.

1 *Calcula las restas.*

$$\begin{array}{r} 18 \\ - 4 \\ \hline \square \end{array}$$


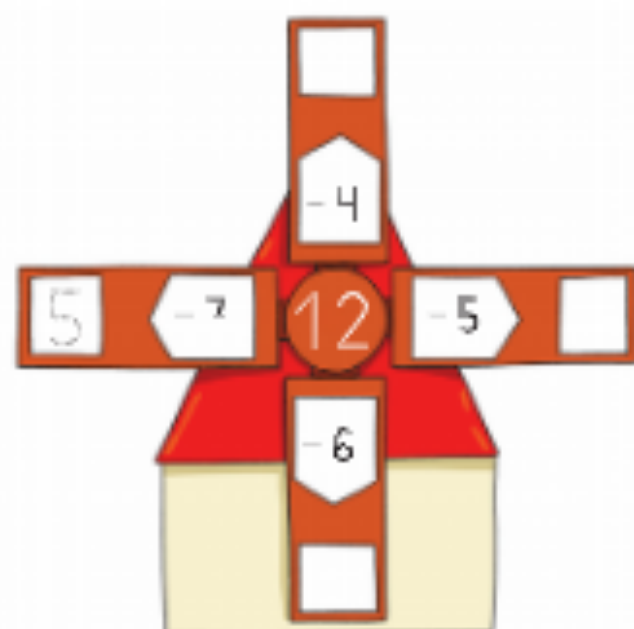
$$\begin{array}{r} 19 \\ - 3 \\ \hline \square \end{array}$$

$$\begin{array}{r} 15 \\ - 5 \\ \hline \square \end{array}$$

$$\begin{array}{r} 13 \\ - 6 \\ \hline \square \end{array}$$

$$\begin{array}{r} 14 \\ - 8 \\ \hline \square \end{array}$$

2 *Resta y completa.*



3 *Completa las series.*



1 Piensa y resuelve.

- Natalia tenía 16 pelotas de tenis.
Lanza 8 pelotas.
¿Cuántas pelotas le quedan?



tenía lanza le quedan

▼ ▼ ▼

$$\square \ominus \square = \square$$

Le quedan \square pelotas.

- Luis tiene que dar 12 vueltas a la pista.
Lleva ya 6 vueltas.
¿Cuántas vueltas le faltan?



tiene que dar ▶ \square

lleva ▶ \square

le faltan ▶ \square

Le faltan \square vueltas.

- Amaya tiene 15 euros. Gasta 9 euros.
¿Cuántos euros le sobran?

$$\square \ominus \square = \square$$

Le sobran \square euros.

