

PRIMEIRO CICLO DE EDUCACIÓN PRIMARIA



Día

3,14

Grupo: _____

1. De que cor é o cabalo branco de Santiago?

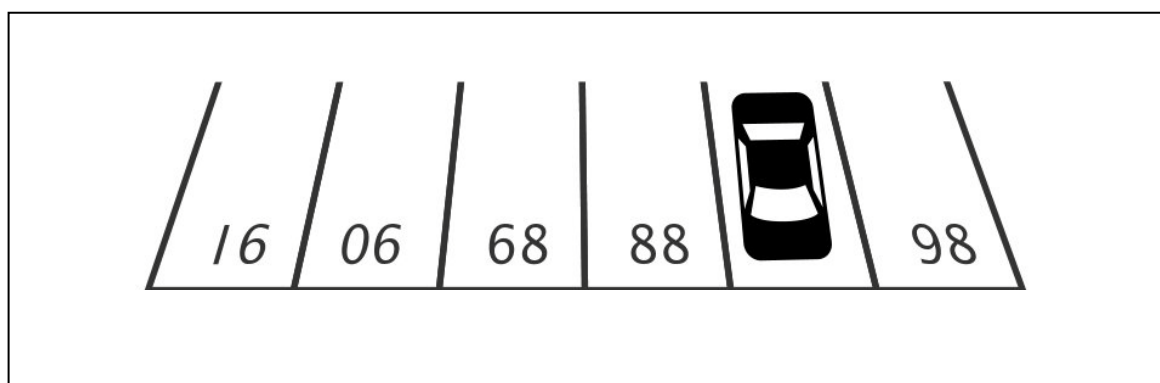
2. Como se chama en Francia o ascensor?

3. Cal é o número que se lle quitas a metade vale cero?

4. Como se saca un elefante dunha piscina chea de auga?

5. De que se alimenta un león morto de fame?

6. Saberías dicir en que praza está aparcado o coche?



SEGUNDO CICLO DE EDUCACIÓN PRIMARIA



Grupo: _____

1. Cantos animais teño na casa sabendo que todos son cans menos dous, todos son gatos menos dous, e que todos son loros menos dous?

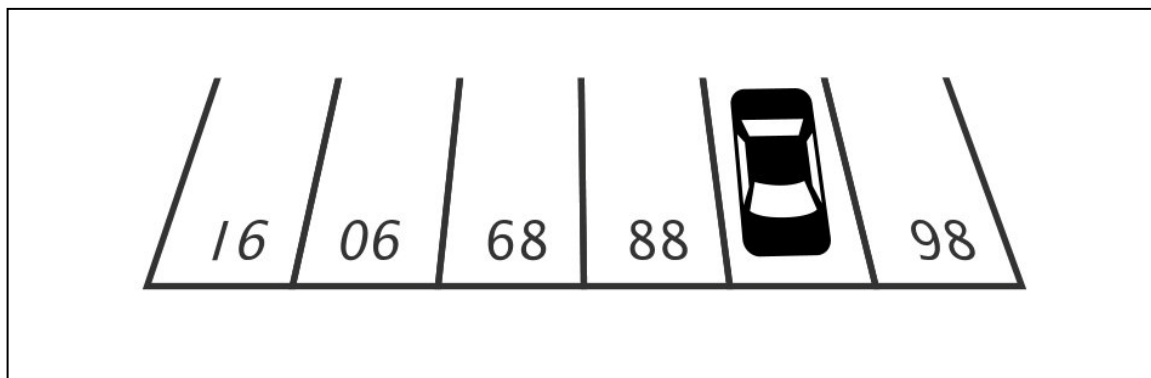
2. Se un pastor ten 15 ovellas e mórrenlle todas menos nove, cantas lle quedan?

3. Cal é o número que se lle quita a metade vale cero?

4. Hai gatos nun caixón, cada gato nun curruncho, cada gato ve tres gatos. Sabes cantos gatos son?

5. Nunha árbore hai sete perdices; se un cazador dispara e mata dous, cantas perdices quedan na árbore?

6. Saberías dicir en que praza está aparcado o coche?



TERCEIRO CICLO DE EDUCACIÓN PRIMARIA




Día

3,14

Grupo: _____

1. Usa os números romanos. Que país é o nº 1090 se lle quitas as vogais?

2. Hugo e máis Pedro están xogando aos dados, Pedro lanza un dado e saca un , a continuación preguntalle a Hugo se sería quen de adiviñar o nº da cara oculta. Hugo acerta e non por casualidade. Que nº dixo Hugo? Por que soubo que o nº era ese?

3. Seis persoas beben auga. Beben 21 vasos en total. Se cada unha delas bebeu un nº de vasos diferente, cantos vasos bebeu cada unha?

4. Por que se volveu tolo o libro de matemáticas?

5. Resolve o seguinte cadrado máxico poñendo un nº do 1 ao 9 en cada cadro de tal maneira que o resultado de sumar cada fila, cada columna e cada diagonal sexa 15.

6. Luís Casas estaba obsesionado por ter 2 casas. Un día tivo unha idea xenial, movendo un só palillo converteu a súa casa en 2. Como o fixo?

