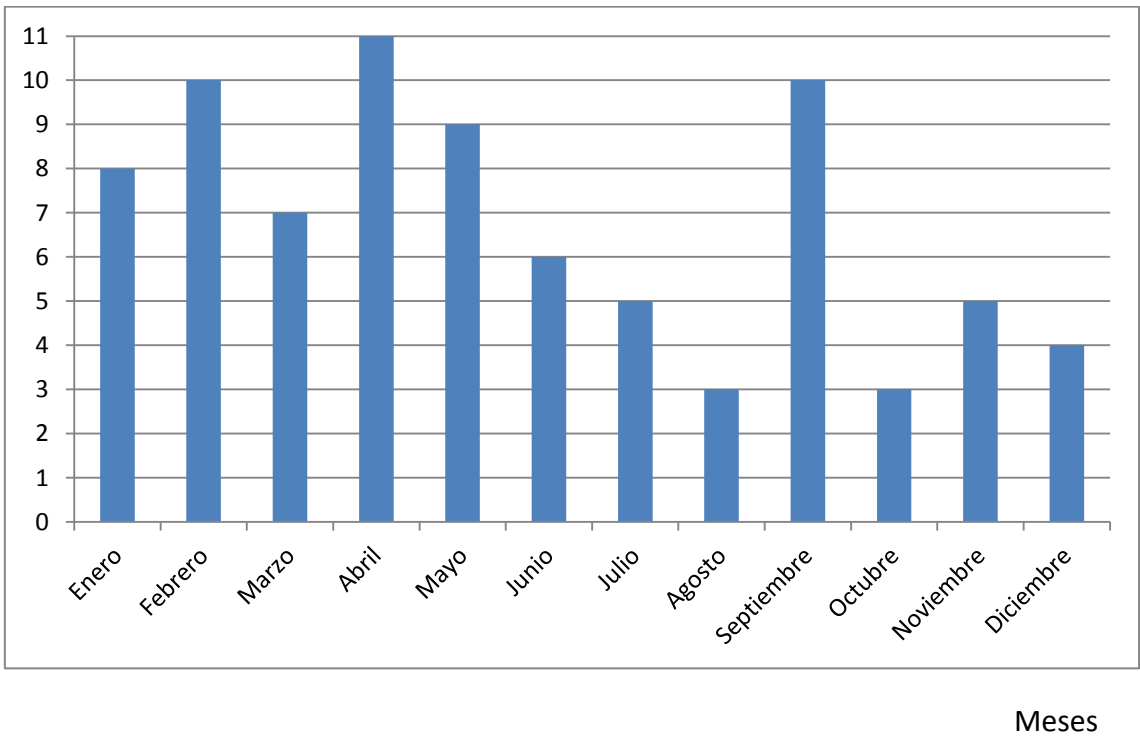


Ejercicios matemáticas.

1. En un colegio se preguntó al alumnado sobre su fecha de nacimiento, concretamente el mes, y el resultado fue el que refleja el diagrama de barras.

Alumnado



-Completa el cuadro con la información del diagrama de barras.

MESES	ALUMNADO
ENERO	8
FEBRERO	
MARZO	
ABRIL	
MAYO	
JUNIO	
JULIO	
AGOSTO	
SEPTIEMBRE	
OCTUBRE	
NOVIEMBRE	
DICIEMBRE	

-¿En qué mes nacieron más niños/as?

-¿En qué mes o meses nacieron menos niños/as?

-¿Cuánto alumnado tiene el colegio?

Fichas con monedas

Marca la opción correcta

1,26 €

☐☐☐

3,04 €

☐☐☐

Marca con una cruz la casilla donde está la respuesta correcta

¿Con qué monedas pagarías el precio exacto de...?


☐

☐

☐

☐

☐


☐

☐

☐

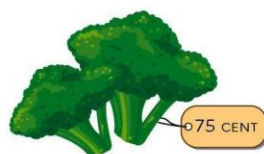
Marca con una cruz la casilla donde está la respuesta correcta

¿Con qué monedas pagarías el precio exacto de...?


☐

☐

☐

☐

☐

☐

☐

☐

